

Prova Semestral

Agosto 2019

LÍNGUA PORTUGUESA MATEMÁTICA

**PREENCHA OS CAMPOS ABAIXO COM
SEUS DADOS. O(A) PROFESSOR(A)
AUXILIARÁ NESTE PREENCHIMENTO.**

NOME DA ESCOLA

NOME DO(A) ESTUDANTE

TURMA

3º ANO - AMPLIADA



**ACOMPANHE ATENTAMENTE A
LEITURA DAS ORIENTAÇÕES
QUE SERÁ REALIZADA PELO(A)
PROFESSOR(A).**

VOCÊ ESTÁ RECEBENDO UM CADERNO
DE QUESTÕES DE LÍNGUA PORTUGUESA
E MATEMÁTICA. O(A) PROFESSOR(A)
ORIENTARÁ VOCÊ NA REALIZAÇÃO DESSA
PROVA. PRESTE ATENÇÃO EM TODAS AS
INSTRUÇÕES.

FAÇA A PROVA CALMAMENTE E COM ATENÇÃO.

BOA PROVA!

LÍNGUA PORTUGUESA

⁽¹¹⁰⁰⁰⁰¹⁾ QUESTÃO 1

OBSERVE A IMAGEM.



Disponível em: <http://www.Frutofrutas.Com.Br/products/#/Modal=window/project-sil-gealow-47270>. Acesso em: 10 abr. 2019.

QUAL É O NOME DA FRUTA?

- (A) MARACUJÁ.
- (B) MELÃO.
- (C) MAMÃO.
- (D) MAÇÃ.

QUESTÃO 2

LEIA A LISTA COM OS NOMES DOS ESTUDANTES.

LUCIANA

BRUNO

BIANCA

GABRIEL

GIULIA

OS NOMES DESSA LISTA, EM ORDEM ALFABÉTICA, SÃO

(A) BRUNO, BIANCA, LUCIANA, GABRIEL E GIULIA.

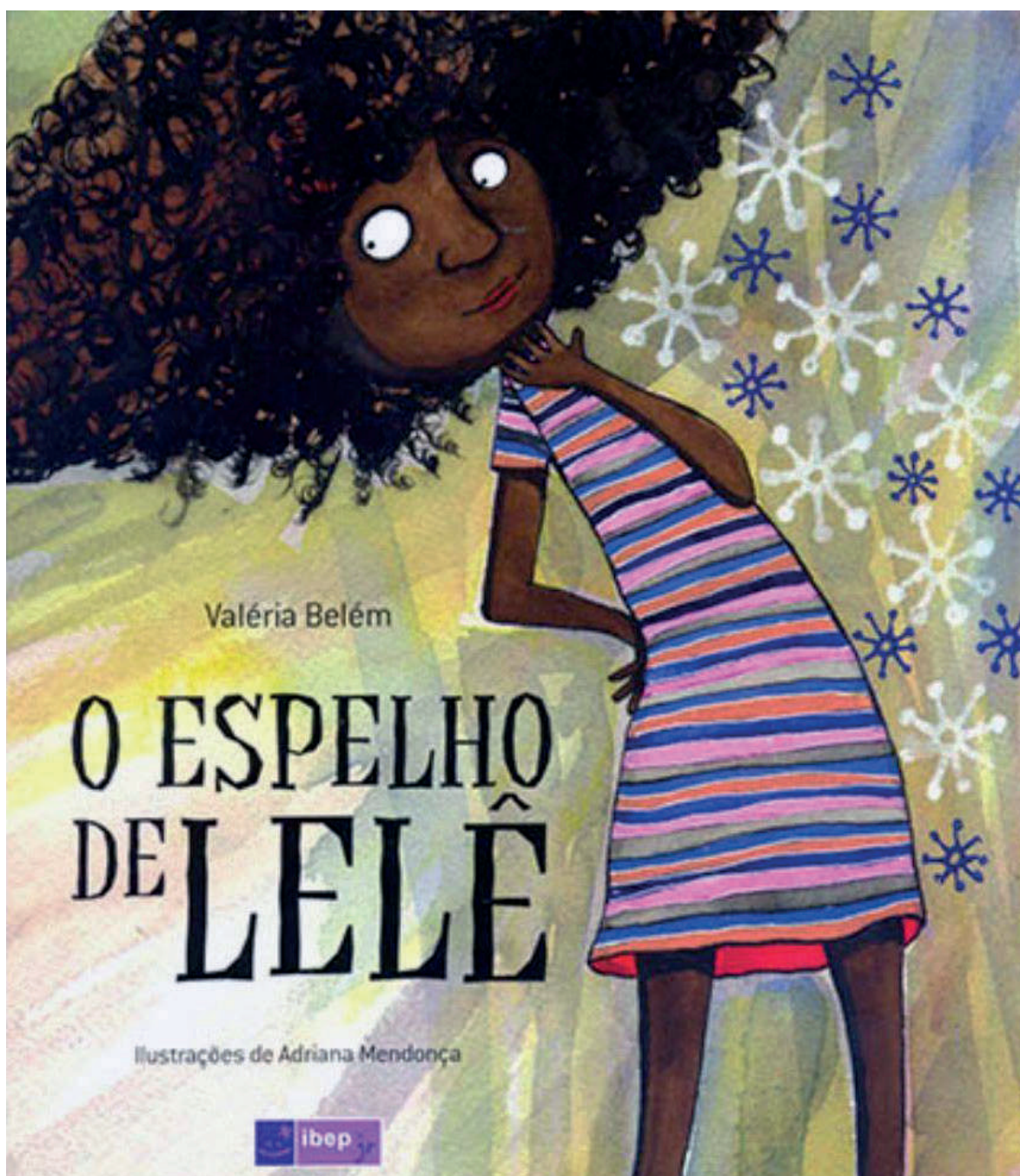
(B) BIANCA, BRUNO, GABRIEL, GIULIA E LUCIANA.

(C) BIANCA, BRUNO, GIULIA, GABRIEL E LUCIANA.

(D) BRUNO, BIANCA, GABRIEL, LUCIANA E GIULIA.

(110003) **QUESTÃO 3**

OBSERVE A CAPA DO LIVRO E RESPONDA.



QUAL É O NOME DA AUTORA DO LIVRO?

(A) ADRIANA MENDONÇA.

(B) O ESPELHO DE LELÊ.

(C) VALÉRIA BELÉM.

(D) IBEP.

(1100007) **QUESTÃO 4**

BARRIGA CHEIA

OLHA LÁ
O TAMANDUÁ
TOMANDO AR!

SUA LÍNGUA COMPRIDA
ENTRA FEITO LOMBRIGA
NO FORMIGUEIRO
PARA COMER FORMIGA.
(...)

PAES, JOSÉ PAULO. **OLHA O BICHO**. SÃO PAULO: ÁTICA, 2011.

NO POEMA, O ASSUNTO PRINCIPAL É:

- (A) AR.
- (B) FORMIGA.
- (C) TAMANDUÁ.
- (D) FORMIGUEIRO.

(1100008)

QUESTÃO 5**OBSERVE A FOTOGRAFIA.**

Disponível em: <http://www.Minhavidia.Com.Br/familia/galerias/11485-cada-brincadeira-assume-uma-funcao-no-desenvolvimento-das-criancas#carousel-galeria>. Acesso em: 11 abr. 2017.

A LEGENDA MAIS APROPRIADA PARA A FOTOGRAFIA É:

(A) MENINAS E MENINOS PLANTAM.

(B) MENINAS E MENINOS CORREM.

(C) MENINAS E MENINOS SENTAM EM RODA.

(D) MENINAS E MENINOS BRINCAM DE RODA.

(1100005) **QUESTÃO 6**

OS LAGARTOS SÃO PREDADORES VELOZES E ÁGEIS E SE ALIMENTAM DE INSETOS, PEQUENOS MAMÍFEROS, PÁSSAROS E OUTROS RÉPTEIS. SÓ UM NÚMERO REDUZIDO DE LAGARTOS, INCLUINDO AS IGUANAS ENORMES, COMEM PLANTAS E FRUTAS.

SIMON, HOLLAND. **RÉPTEIS**. BARUERI: EDITORA GIRASSOL, 2007.

VOCABULÁRIO

RÉPTEIS: ANIMAIS QUE RASTEJAM COMO COBRAS, LAGARTOS E IGUANAS.

PEQUENOS MAMÍFEROS: RATOS, PEQUENOS ROEDORES.

AS IGUANAS ENORMES SE ALIMENTAM DE

- (A) FRUTAS E RÉPTEIS.
- (B) PLANTAS E FRUTAS.
- (C) PLANTAS E PÁSSAROS.
- (D) PÁSSAROS E MAMÍFEROS.

QUESTÃO 7

LEIA A LISTA DOS NOMES DOS ESTUDANTES
ESCOLHIDOS PARA CONTAR UMA HISTÓRIA.

ADELAIDE

ADRIANA

DAVID

ADRIANO

DENISE

PAULO

OS NOMES DESSA LISTA, EM ORDEM ALFABÉTICA, SÃO:

- (A) ADELAIDE, ADRIANA, ADRIANO, PAULO, DENISE E DAVID.
- (B) ADELAIDE, ADRIANA, ADRIANO, DAVID, DENISE E PAULO.
- (C) ADRIANO, ADRIANA, ADELAIDE, DAVID, DENISE E PAULO.
- (D) ADRIANA, ADRIANO, ADELAIDE, DENISE, PAULO E DAVID.

(001) **QUESTÃO 8**



Disponível em: <https://www.Papelariamatriz.Com.Br/grampeador-jacar-boss-93017#>. Acesso em: 12 abr. 2019.

ESSA IMAGEM É DE UM

- (A) GUACHE.
- (B) GRAMPO.
- (C) GRAFITE.
- (D) GRAMPEADOR.

(1100012)

QUESTÃO 9

LEIA O POEMA.

COMO O MIMOSO CROCODILO
DO RABO ENFEITA O COURO,
E ESPIRRA ÁGUA DO RIO NILO
NESSAS ESCAMAS DE OURO!

E COMO ALEGRE ELE SORRI,
GRACIOSO, MOSTRA OS DENTES,
E ABRE AS GARRAS, E GENTIL,
CONVIDA OS PEIXES: – ENTREM!

BELINKY, TATIANA. **UM CALDEIRÃO DE POEMAS.**
SÃO PAULO: COMPANHIA DAS LETRINHAS, 2003, p. 41.

QUAL É O TEMA DO TEXTO?

- (A) O CROCODILO GRACIOSO.
- (B) A ÁGUA DO RIO NILO.
- (C) O CONVITE AOS PEIXES.
- (D) AS ESCAMAS DE OURO.

QUESTÃO 10**BOLA DE GUDE**

A MAIOR BOLA DO MUNDO
É DE FOGO E SE CHAMA SOL,
A BOLA MAIS CONHECIDA
É A DE JOGAR FUTEBOL.

CERTA BOLA COLORIDA
JOGAR BEM EU NUNCA PUDE,
É DE VIDRO ESSA BANDIDA
É CHAMA-SE BOLA DE GUDE.

AZEVEDO, RICARDO. **DEZENOVE POEMAS DESENGONÇADOS.**
SÃO PAULO: ÁTICA, 2012, P.17.

NO POEMA, AS PALAVRAS QUE RIMAM SÃO:

- (A) FOGO, SOL.
- (B) SOL, FUTEBOL.
- (C) JOGAR, BOLA.
- (D) BOLA, COLORIDA.

(1100215) **QUESTÃO 11**

A ESTRELA

VI UMA ESTRELA TÃO ALTA,
VI UMA ESTRELA TÃO FRIA!
VI UMA ESTRELA LUZINDO
NA MINHA VIDA VAZIA.

ERA UMA ESTRELA TÃO ALTA!
ERA UMA ESTRELA TÃO FRIA!
ERA UMA ESTRELA SOZINHA
LUZINDO NO FIM DO DIA.
(...)

BANDEIRA, MANUEL. **BERIMBAU E OUTROS POEMAS.**
SÃO PAULO: GLOBAL, 2013, p.34.

O SENTIMENTO TRANSMITIDO NESTE POEMA É DE

- (A) ADMIRAÇÃO.
- (B) ALEGRIA.
- (C) SOLIDÃO.
- (D) SURPRESA.

(1100216)

QUESTÃO 12**MODA DA MENINA TROMBUDA**

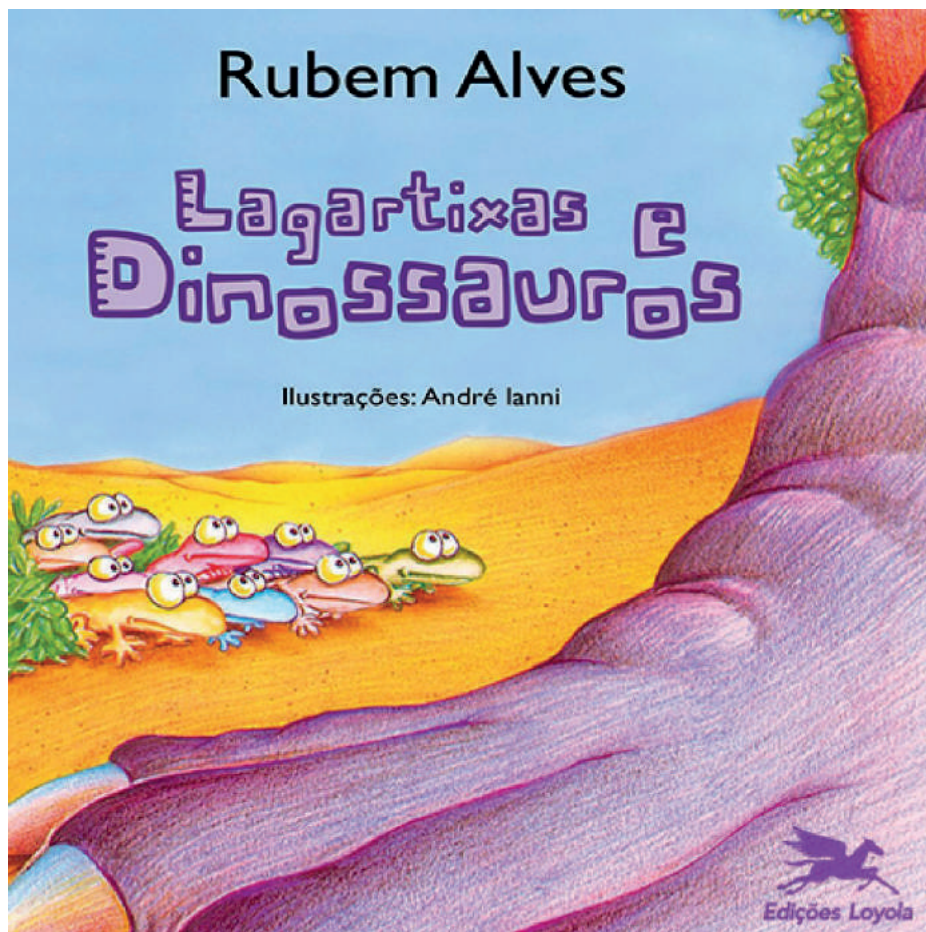
(...)
É A MODA
DA MENINA MUDA
QUE MUDA DE MODOS
E JÁ NÃO É TROMBUDA.
(...)

MEIRELES, CECÍLIA. **Ou isto ou aquilo**. SÃO PAULO: GLOBAL, 2012, p. 9.

A PALAVRA “MUDA”, NO SEGUNDO VERSO, TEM O MESMO SENTIDO DE

- (A) FALANTE.
- (B) QUE TROCA.
- (C) QUE NASCE.
- (D) QUE NÃO FALA.

(1100217) **QUESTÃO 13**



Disponível em: <https://www.ciadestvivos.com.br/produto/lagartixas-e-dinossauros-141940>. Acesso em: 05 mai. 2019.

NESTE LIVRO, AS ILUSTRAÇÕES FORAM FEITAS POR

- (A) ANDRÉ IANNI.
- (B) EDIÇÕES LOYOLA.
- (C) LAGARTIXAS E DINOSSAUROS.
- (D) RUBEM ALVES.

(1100260) **QUESTÃO 14**

A CAPA DA REVISTA CRESCER DESTACA O TÍTULO DE UMA MATÉRIA POR MEIO DO TAMANHO DA LETRA DO TEXTO E DA SUA RELAÇÃO COM A IMAGEM.



O TÍTULO EM DESTAQUE É:

(A) “ESTREIAS”.

(B) “PEITO ABERTO”.

(C) “FAÇA SUA FESTA!”.

(D) “GUIA DE PRIMEIROS SOCORROS”.

QUESTÃO 15**UM MITO CAIAPÓ**

CONTAM OS CAIAPÓ QUE UM JOVEM ACHOU UM NINHO DE ARARA COM DOIS FILHOTES. ESTAVA BEM NO ALTO, NUM BURACO FEITO EM UM **PAREDÃO**. ESTAVA TÃO ALTO QUE O JOVEM PEDIU AJUDA PARA SEU CUNHADO. OS DOIS CORTARAM UMA ÁRVORE E A ENCOSTARAM NO **PAREDÃO**. O JOVEM MANDOU O CUNHADO SUBIR PARA PEGAR OS FILHOTES. (...)

MUNDURUKU, DANIEL. **COMO SURTIU. MITOS INDÍGENAS BRASILEIROS**. SÃO PAULO: CALLIS EDITORA, 2018, P. 23.

VOCABULÁRIO

CAIAPÓ: GRUPO INDÍGENA BRASILEIRO.

AS PALAVRAS GRIFADAS SEGUEM A MESMA REGRA DE

(A) BOCÃO.


(B) BALÃO.

(C) BOTÃO.

(D) LIMÃO.

(1100261) **QUESTÃO 16**

ESCREVA O TÍTULO DA HISTÓRIA REPRESENTADA NA IMAGEM.



(11002012)

QUESTÃO 17

ESCREVA O NOME DO OBJETO ILUSTRADO.



Disponível em: <https://www.Oppa.Com.Br>. Acesso em: 24 abr. 2019.

(11002013)

QUESTÃO 18

ESCREVA O NOME DO OBJETO ILUSTRADO.



Disponível em: <https://br.Depositphotos.Com/>. Acesso em: 26 abr. 2019.

(1100262) **QUESTÃO 19**

ESCREVA UMA LEGENDA PARA A FOTOGRAFIA.



Disponível em: <http://www.einfachleisch.de/hunde/hundeerziehung/rotweiler-worauf-sie-bei-der-erziehung-achten-sollten-1d80229/>. Acesso em: 25 jun. 2019.

QUESTÃO 20

LEIA O TEXTO E CONTINUE A HISTÓRIA DANDO A ELA O FINAL QUE VOCÊ DESEJAR.

CHAPEUZINHO VERMELHO

ERA UMA VEZ UMA MENINA CHAMADA CHAPEUZINHO VERMELHO QUE MORAVA PERTO DE UMA FLORESTA. UM DIA, SUA MÃE LHE PEDIU QUE LEVASSE UMA CESTA COM DOCES E FRUTAS À AVÓ QUE ESTAVA DOENTE. MAS, ANTES DE SAIR, FOI ORIENTADA A NÃO CONVERSAR COM ESTRANHOS, A NÃO DESVIAR-SE DO CAMINHO E A IR DIRETO À CASA DA VOVÓ.

CHAPEUZINHO VERMELHO, DESOBEDECENDO À MÃE, PEGOU O CAMINHO MAIS CURTO, INDO PELA FLORESTA. ENQUANTO CAMINHAVA, ENCONTROU UM LOBO QUE LHE FEZ DIVERSAS PERGUNTAS SOBRE O QUE LEVAVA E PARA ONDE IRIA; ALÉM DE LHE SUGERIR QUE COLHESSSE FLORES PARA LEVÁ-LAS À AVÓ.

INGENUAMENTE, A GAROTA FORNECEU TODAS AS INFORMAÇÕES AO LOBO E ACEITOU A SUA SUGESTÃO: COLHER AS FLORES. COM ISSO, O ANIMAL CORREU NA FRENTE E CHEGOU PRIMEIRO À CASA DA VOVÓ. MAL-INTENCIONADO, BATEU NA PORTA E, IMITANDO A VOZ DE CHAPEUZINHO, PEDIU PARA ENTRAR.


LOGO QUE ENTROU, _____

Lined writing area for the student's answer, consisting of 18 horizontal lines.

MATEMÁTICA

(21000233) **QUESTÃO 21**

OBERVE OS MONSTROS ENFILEIRADOS E O NÚMERO CORRESPONDENTE A CADA UM.



1

2

3

4

O NÚMERO CORRESPONDENTE AO MONSTRO MAIS ALTO É O

- (A) 1.
- (B) 2.
- (C) 3.
- (D) 4.

QUESTÃO 22

OS ALUNOS FIZERAM UMA PESQUISA NA TURMA PARA SABER DO QUE CADA UM TEM MAIS MEDO. REGISTRARAM O RESULTADO EM UM QUADRO.

PESQUISA SOBRE O MEDO

O QUE DÁ MEDO	QUANTOS TÊM MEDO
COBRA	43
ESCURO	29
LADRÃO	32
TROVÃO	38
FANTASMA	41

OS ALUNOS TÊM MAIS MEDO

- (A) DE COBRA.
- (B) DE LADRÃO.
- (C) DO ESCURO.
- (D) DO TROVÃO.

(2100238)

QUESTÃO 23

OS ESTUDANTES DO 2º ANO MARCARAM, EM UM DIAGRAMA, AS LEITURAS REALIZADAS NA SEMANA. PARA CADA MENINO OU MENINA QUE LEU, FOI COLOCADA UMA BOLINHA.

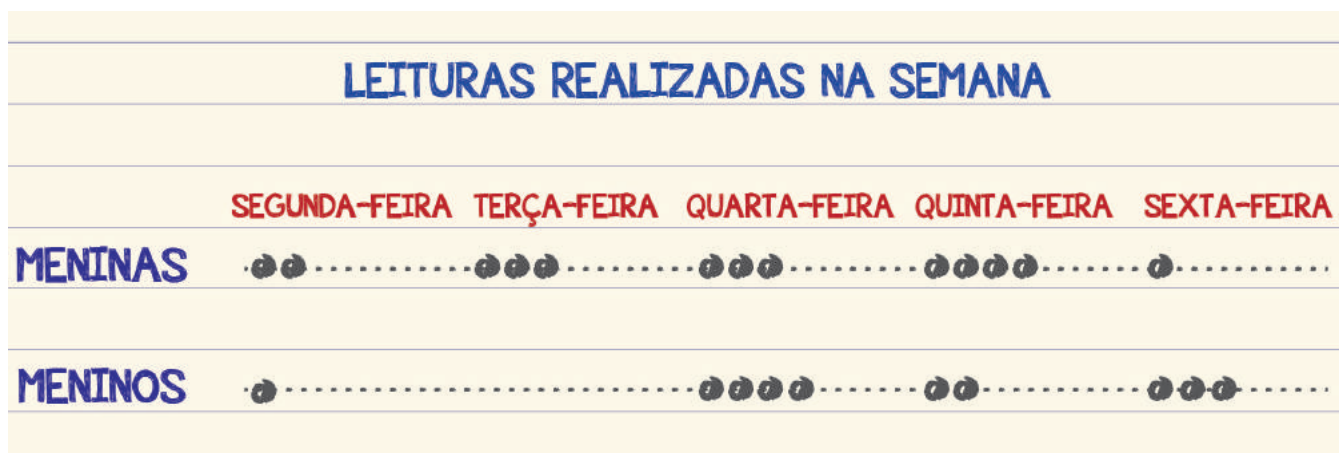


Ilustração: Fernanda Gomes

O NÚMERO QUE INDICA A QUANTIDADE DE MENINAS QUE LERAM NA TERÇA-FEIRA É

- (A) 0.
- (B) 1.
- (C) 2.
- (D) 3.

(2100067) **QUESTÃO 24**

A VELA, MOSTRADA NA IMAGEM, TEM A FORMA PARECIDA COM A DE UM OBJETO GEOMÉTRICO.



ESSE OBJETO É

(A) O CILINDRO.

(B) O CONE.

(C) A PIRÂMIDE.

(D) A ESFERA.

(2100207)

QUESTÃO 25

O PROFESSOR PERGUNTOU AOS ESTUDANTES QUAL SERIA A CHANCE DE SER SORTEADA UMA CRIANÇA COM ÓCULOS, ENTRE AS REPRESENTADAS NA IMAGEM. O PROFESSOR OBTVEVE, DOS ESTUDANTES, 4 TIPOS DE RESPOSTAS:

- I. COM CERTEZA SERIA SORTEADA UMA CRIANÇA COM ÓCULOS.
- II. POSSIVELMENTE SERIA SORTEADA UMA CRIANÇA COM ÓCULOS.
- III. DIFICILMENTE SERIA SORTEADA UMA CRIANÇA COM ÓCULOS.
- IV. SERIA IMPOSSÍVEL SER SORTEADA UMA CRIANÇA COM ÓCULOS.

ENTRE AS APRESENTADAS, A RESPOSTA À PERGUNTA DO PROFESSOR DEVE SER A INDICADA POR

(A) I.

(B) II.

(C) III.

(D) IV.

(2100005) **QUESTÃO 26**

$$\begin{array}{r} 325 \\ - 214 \\ \hline \end{array}$$

O RESULTADO DESSA SUBTRAÇÃO É

(A) 111.

(B) 121.

(C) 311.

(D) 539.

(2100071)

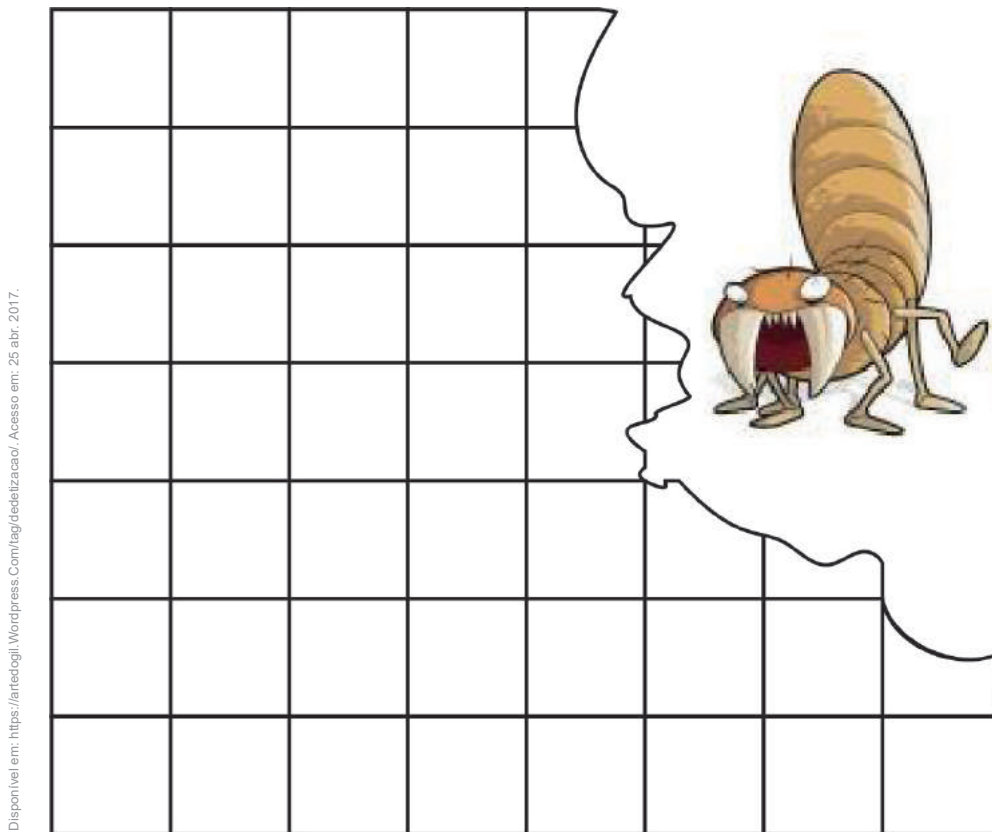
QUESTÃO 27

O NÚMERO FALADO É

- (A) 3 264.
- (B) 3 200 604.
- (C) 3 200 064.
- (D) 3 000 200 604.

(2100013) **QUESTÃO 28**

A TRAÇA ROEU A FOLHA QUADRICULADA
RETANGULAR.




Disponível em: <https://antecogil.wordpress.com/tag/dedeizacaol/>. Acesso em: 25 abr. 2017.

QUANTOS QUADRADINHOS A FOLHA QUADRICULADA
TINHA, NO TOTAL?

- (A) 15
- (B) 26
- (C) 39
- (D) 56

QUESTÃO 29

EM UM JOGO DE COMPOSIÇÃO DE NÚMEROS, OS ALUNOS TIRAM 3 CARTAS. AS CARTAS FORNECEM UMA DECOMPOSIÇÃO DE UM NÚMERO. OS ALUNOS DEVEM DESCOBRIR O NÚMERO QUE É FORMADO SOMANDO OS VALORES QUE SAEM NAS CARTAS. OBSERVE AS CARTAS QUE TIRARAM:



O NÚMERO QUE TEM ESSA DECOMPOSIÇÃO É

- (A) 432 100 000.
- (B) 421 000 300.
- (C) 21 000 304.
- (D) 21 304.

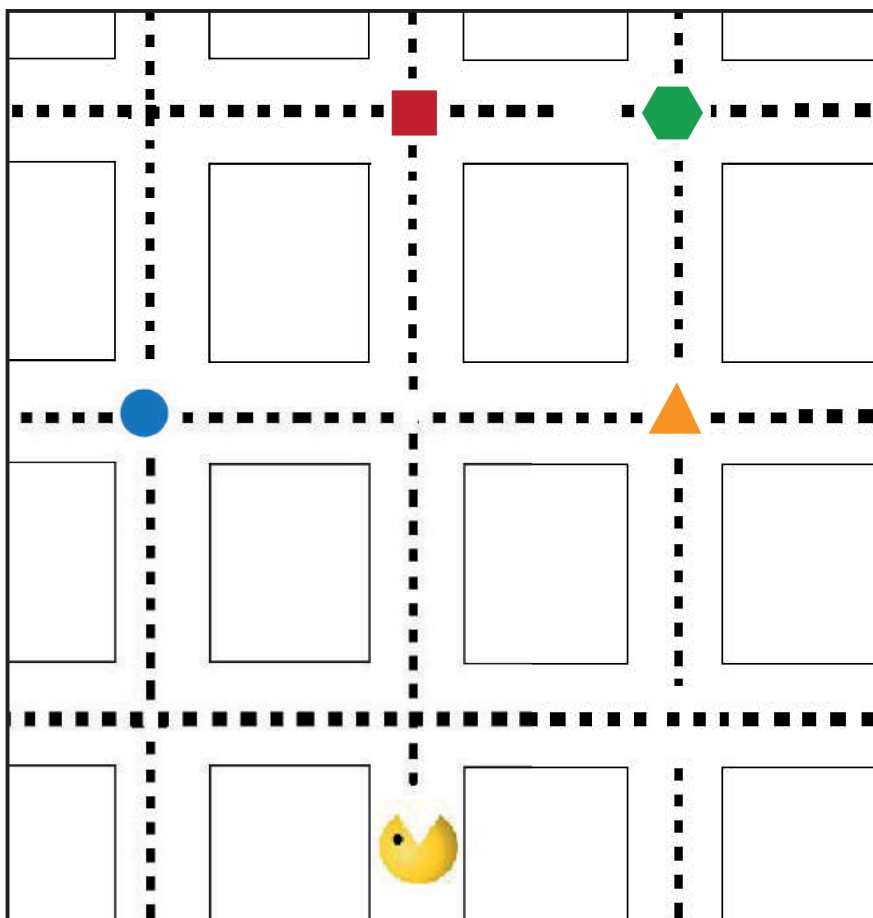
(2100059) **QUESTÃO 30**

EM UMA EXCURSÃO DA ESCOLA, ENTRARAM 34 CRIANÇAS NO PRIMEIRO ÔNIBUS E 26 NO SEGUNDO. O NÚMERO DE CRIANÇAS QUE O PRIMEIRO ÔNIBUS TINHA A MAIS QUE O SEGUNDO ERA

- (A) 60.
- (B) 50.
- (C) 12.
- (D) 8.

(2100002) **QUESTÃO 31**

EM UM JOGO ELETRÔNICO, O COME-COME VAI VIRAR NA SEGUNDA À DIREITA.











A FIGURA QUE ELE COMERÁ SERÁ:

- (A) ●
- (B) ⬡
- (C) ■
- (D) ▲

(2100004)

QUESTÃO 32

	DOM	SEG	TER	QUA	QUI	SEX	SAB
	2	3	4	5	6	7	1 8
	9	10	11	12	13	14	15
	16	17	18	19	20	21	22
	23	24	25	26	27	28	29
	30						

O DIA DA PESCARIA ESTÁ CIRCULADO NO CALENDÁRIO. O PESCADOR VAI COMPRAR ISCAS DOIS DIAS ANTES DA PESCA. EM QUE DIA ELE VAI COMPRAR AS ISCAS?

- (A) 6
- (B) 7
- (C) 8
- (D) 10

(2100213) **QUESTÃO 33**




UM ESTUDANTE COMPROU UMA BORRACHA POR R\$ 4,00 E PAGOU COM A NOTA ILUSTRADA NA IMAGEM. O VALOR QUE O ESTUDANTE RECEBEU DE TROCO FOI

- (A) R\$ 4,00.
- (B) R\$ 6,00.
- (C) R\$ 10,00.
- (D) R\$ 14,00.


(2100008) **QUESTÃO 34**

OBSERVE A QUANTIDADE DE CACHORRINHOS EM CADA FICHA.


1ª FICHA



2ª FICHA



3ª FICHA




Disponível em: <http://galeria.Colorir.Com/animais/caes/ca-chorro-pintado-daniel-711887.html>. Acesso em: 23 abr. 2017

DE ACORDO COM A SEQUÊNCIA APRESENTADA, SE HOUVESSE UMA 4ª FICHA, QUANTOS CACHORRINHOS HAVERIA NELA?

- (A) 8
- (B) 9
- (C) 12
- (D) 15

(2100214)

QUESTÃO 35

UM DESENHO ANIMADO POSSUI O QUÁDRUPLO DO NÚMERO DE ANIMAIS ILUSTRADOS NA IMAGEM. O NÚMERO TOTAL DE ANIMAIS QUE HÁ NO DESENHO ANIMADO É

- (A) 7.
- (B) 14.
- (C) 21.
- (D) 28.

(2100215) **QUESTÃO 36**



Disponível em: <https://espacocasa.wordpress.com/author/zoymaria/page/26/> Acesso em: 11 maio 2019.

O NÚMERO DA RESIDÊNCIA ESTÁ MARCADO NA PORTA. ESCREVA ESSE NÚMERO COMO SE LÊ, OU SEJA, POR EXTENSO.

(2100216) **QUESTÃO 37**

CADA UMA DESSAS LARANJAS TEM 12 GOMOS.




Ilustração: Fernanda Gomes

QUANTOS GOMOS HÁ, AO TODO, NESSAS LARANJAS?

(2100217)

QUESTÃO 38Disponível em: <https://www.theodysseyonline.com/charlie-brown-christmas-break>. Acesso em: 12 maio 2019.

OBSERVANDO A IMAGEM, NOTA-SE QUE HÁ MAIS CRIANÇAS AO LADO ESQUERDO DA ÁRVORE DO QUE AO LADO DIREITO. QUANTAS CRIANÇAS HÁ AO LADO ESQUERDO DA ÁRVORE, A MAIS QUE AO LADO DIREITO?



(2100218) **QUESTÃO 39**




Ilustração: Fernanda Gomes

Ó RATO ENTROU EM UM LABIRINTO, CONFORME SE OBSERVA NA IMAGEM. ÉLE IRÁ VIRAR NA SEGUNDA ENTRADA À DIREITA E DEPOIS NA SEGUNDA À ESQUERDA, ATÉ SE DEPARAR COM A PAREDE DO LABIRINTO.

DESENHE, NO LABIRINTO, O CAMINHO QUE O RATO VAI SEGUIR E FAÇA UMA MARCA ONDE ELE VAI PARAR. FAÇA O REGISTRO A SEU MODO.

(2100219) **QUESTÃO 40**

UM ESTUDANTE UTILIZOU SUA RÉGUA PARA MEDIR O COMPRIMENTO DO LÁPIS, CONFORME ILUSTRADO NA IMAGEM.



Ilustração: Fernanda Gomes

ESCREVA OU REPRESENTE, A SEU MODO, A MEDIDA DO COMPRIMENTO DO LÁPIS.



**CIDADE DE
SÃO PAULO
EDUCAÇÃO**