

# LÍNGUA PORTUGUESA

Leia o texto para responder às questões 1 e 2.



Envie seu e-mail para  
meupef@escala.com.br

*Queria compartilhar com vocês a mania inusitada que o meu cachorro tem e até hoje não encontrei outro que tenha. Ele é viciado em chupar dedo... O meu, no caso (risos)! Acho que isso acontece porque ele foi alimentado com mamadeira quando era pequeno, é muito fofo.*

T.F., via Facebook

Revista Meu Pet. Ano 4. Edição 50. Editora Escala: São Paulo, SP.

## QUESTÃO 1

Este texto é

- (A) uma carta pessoal.
  - (B) um comentário digital.
  - (C) uma propaganda sobre pet.
  - (D) um relato sobre um cachorro.
- .....

## QUESTÃO 2

No trecho “Queria compartilhar com vocês a mania **inusitada** que meu cachorro tem...”, a palavra destacada quer dizer

- (A) fofa.
- (B) infantil.
- (C) esquisita.
- (D) engraçada.

Leia a tira para responder às questões 3 e 4.



Disponível em: <http://cultura.estadao.com.br/quadrinhos>. Acesso em: 26 de dez. de 2017.

### QUESTÃO 3

Na tira, a bela tentativa significa que

- (A) a mãe foi enganada pelo menino.
  - (B) o menino está tomando banho na banheira.
  - (C) a mãe percebeu que o menino quis enganá-la.
  - (D) o menino conseguiu se esconder atrás da porta.
- .....

### QUESTÃO 4

O trecho “Bela tentativa!” da tira pode ser reescrito em discurso indireto da seguinte forma:

- (A) A mãe disse:  
- Bela tentativa!
- (B) O menino ouviu a mãe dizer:  
- Bela tentativa!
- (C) A mãe disse ao menino: - Bela tentativa!
- (D) A mãe disse ao menino que foi uma bela tentativa.

**QUESTÃO 5****Vem aí o “apagão analógico”**

O Ministério das Comunicações estabeleceu o desligamento do sinal de televisão analógica em todo o país até 2013. Entretanto para que isso aconteça, ao menos 93% da população deve aderir ao receptor digital. Essa medida é importante para o sistema de telecomunicações, pois os sinais analógicos ocupam grande espaço de ondas. Além disso, o sinal digital possui uma faixa de frequência que não se altera tanto quanto a do analógico, resultando no final dos “chiados” e “fantasmas” na televisão.

Revista Áudio e Vídeo, Design e Automação. Ano 11. Edição 142. Editora Crazy Turkey. São Paulo, SP (Adaptado)

O assunto principal do texto é

- (A) os benefícios do sinal digital.
  - (B) o alcance do receptor analógico.
  - (C) os resultados dos sinais digitais.
  - (D) o desligamento do sinal analógico.
- .....

**QUESTÃO 6****Garota, relaaaxa!**

Diante de tantas obrigações e compromissos, é comum se descontrolar algumas vezes. Escola, academia, provas, compromissos de família... Ufa! Tudo isso acaba virando uma bola de neve que congela o bom humor. Ai, ai, ai, o que fazer, então?

Revista Toda Teen. Ano 23. Edição 256. Editora Alto Astral. São Paulo, SP.

Esse texto foi escrito para

- (A) pais.
- (B) adultos.
- (C) crianças.
- (D) adolescentes.

Leia o texto para responder às questões 7 e 8.

### Era essencial, mas sumiu

Não há pior caso de marketing que o dos fabricantes de chapéu. No passado, nenhum sujeito elegante saía de casa sem o seu. Havia vários estilos: coco, palheta, panamá. Mulheres também tinham os seus, chiquérrimos. Mas o chapéu sumiu do vestuário cotidiano. Entre vários motivos, há um profundo preconceito estético. Valorizada era a pele branca, de quem não tomava sol. Só há algumas décadas a cútis morena recebeu o status de bela. O chapéu aposentou-se. É usado ainda, mas por charme. Ainda se usa boné, esse sim, em dias de sol inclemente. Junto com o chapéu, foi-se a bengala. Não se usava bengala por necessidade, como hoje. Era item essencial à elegância. Havia lindas, com castão de prata.

Disponível em: <http://epoca.globo.com/sociedade/walcyr-carrasco/noticia/2017/12/era-essencial-mas-sumiu.html>. Publicado em: 19 de dez. de 2017. Acesso em: 26 de dez. de 2017.

### QUESTÃO 7

Conforme o texto, o item usado hoje por necessidade é


- (A) o chapéu.
  - (B) a bengala.
  - (C) o boné.
  - (D) a palheta.
- .....

### QUESTÃO 8

No trecho "... nenhum sujeito elegante saía de casa sem o **seu**", o termo destacado refere-se a

- (A) boné.
- (B) coco.
- (C) chapéu.
- (D) marketing.

QUESTÃO 9



Disponível em: <http://cultura.estadao.com.br/quadrinhos>. Acesso em 14 de dez. de 2017.

Esse texto serve para

- (A) narrar um fato.
- (B) entreter um leitor.
- (C) dar uma instrução.
- (D) apresentar um conselho.

QUESTÃO 10



Disponível em: <https://www.akatu.org.br/noticia/consumo-consciente-e-publicidade-aliados-ou-inimigos/>. Acesso em 27 de dez. de 2017.

No anúncio, o consumo consciente se refere

- (A) à utilização de energia eólica.
- (B) ao lazer e à alegria das pessoas.
- (C) à necessidade de morar numa casa no campo.
- (D) ao consumo de energia elétrica durante o dia.

## QUESTÃO 11

## No fundo do mar

Os ovos da lagosta dão origem a larvas, chamadas náuplios. Elas vivem nadando pela superfície e se alimentam de bactérias e partículas de algas. O náuplio tem a cabeça dividida em três partes: antenas, mandíbulas e um único olho. Ele troca de casca cerca de 15 vezes, ganhando novos segmentos. Na fase adulta, a lagosta vive no fundo do oceano, alimentando-se de peixes e camarões.

Revista Recreio. Ano 17. Edição 899. Editora Caras. São Paulo, SP.

No trecho “**Ele** troca de casca cerca de 15 vezes...”, o termo destacado refere-se a

- (A) mar.
- (B) olho.
- (C) náuplio.
- (D) oceano.

## QUESTÃO 12

**COMIDA NA MEDIDA CERTA**

O treinador **Marcio Atalla** é adepto de um estilo de vida saudável, mas sem abrir mão do prazer de comer

por Cintia Oliveira

**Como é a sua alimentação do dia a dia?**  
Nunca deixo de colocar no meu prato salada, arroz e feijão. Ai, depois, escolho uma fonte de proteína, e procuro comer frutas após o almoço. Às vezes, como um docinho também, mas um pedaço, não a travessa inteira.

**Tem algum prato que te faz escapar da dieta?**  
Eu não faço dieta, por isso não escapo nunca (risos)! A minha dica é básica: procure consumir alimentos mais naturais e menos processados.

Disponível em <https://www.revistamenu.com.br/2017/10/30/marcio-atalla-e-adepto-de-alimentacao-inteligente/> Acesso em: 20 de dez. de 2017.

No trecho “...procure consumir alimentos mais naturais e menos **processados**”, o termo destacado pode ser substituído, sem mudar o seu sentido, por

- (A) culpados.
- (B) passados.
- (C) verificados.
- (D) modificados.

**QUESTÃO 13****Aprenda a salvar uma panela queimada usando bicarbonato de sódio****POR DENTRO:**

Se a panela estiver com o interior queimado, raspe com uma colher de pau o alimento que ficou grudado. A colher deve ser de pau para não riscar a panela. Depois, cubra o fundo com água, coloque três colheres de bicarbonato de sódio e deixe descansar por duas horas. Em seguida, lave normalmente que a comida terá desgrudado do fundo.

Disponível em: <http://www1.folha.uol.com.br/sobretudo/vida-pratica/2017/12/1941900-aprenda-a-salvar-uma-panela-queimada-usando-bicarbonato-de-sodio.shtml>. Acesso em: 14 de dez. 2017.

O objetivo desse texto é

- (A) relatar um fato.
- (B) dar uma informação.
- (C) instruir um procedimento.
- (D) apresentar o bicarbonato de sódio.

**QUESTÃO 14****Butantã terá fábrica de medicamentos**

O Instituto Butantã anunciou na sexta-feira, 23, em São Paulo, na festa de 117 anos, a construção de uma fábrica para a produção de seis medicamentos contra o câncer e duas vacinas (hepatite A e tríplice acelular, que protege contra difteria, tétano e coqueluche). A previsão do governo estadual é de concluir a obra em 2020.

Disponível em: <https://noticias.uol.com.br/saude/ultimas-noticias/estado/2018/02/26/butantã-tera-fabrica-de-medicamentos.htm> Publicado em: 26 de fev. de 2018. Acesso em: 28 de fev. de 2018.

O assunto principal do texto é

- (A) o término da obra em 2020.
- (B) a produção de medicamentos contra o câncer.
- (C) o desenvolvimento de vacinas: hepatite A e tríplice acelular.
- (D) a informação da construção de uma fábrica de medicamentos.

## QUESTÃO 15



Disponível em: <http://cultura.estadao.com.br/quadrinhos>. Acesso em 28 de dez. de 2017.

Na tira, o efeito de humor está presente

- (A) no duplo sentido da palavra “torcer”.
- (B) na ação do carteiro em torcer as roupas.
- (C) na resposta da personagem “É o carteiro...”
- (D) no questionamento da personagem “Quem é ele?”.



# LÍNGUA INGLESA

## QUESTÃO 16



Disponível em: <https://www.oqvstir.com.br/vitrines/summer-sale-50-a-60>. Acesso em 06 de mar. de 2018.

No anúncio, o trecho que indica uma ordem é

- (A) "Summer sale".
- (B) "Starts now".
- (C) "50% off".
- (D) "Shop now".

---

## QUESTÃO 17

### You Are Not Alone

Michael Jackson

Another day has gone  
I'm still all alone  
How could this be  
You're not here with me  
You never said good-bye  
Someone tell me why  
Did you have to go  
And leave my world so cold

Disponível em: <https://www.vagalume.com.br/michael-jackson/you-are-not-alone.html>. Acesso em 26 de mar. de 2018.

O texto é o trecho de

- (A) um poema.
- (B) uma canção.
- (C) uma biografia.
- (D) um comentário.

Leia o texto para responder às questões 18 e 19.

### (Siberian) Tiger

The biggest, largest and most heavy cat is definitely the tiger, especially the Siberian Tiger. Weighing just under a thousand pounds (425kg), these giants roam the snowy plains of Russia. There are only about 350 Siberian tigers alive today. They average about 80 inch (2 meters) long. And check this out: Black bears are this tiger's dinner. The massive black bear is a snack to this cat.

Disponível em: <http://www.catsaroundtheglobe.com/top-5-big-wild-cats-list/>. Acesso em: 26 de mar. de 2017.

#### QUESTÃO 18

Esse texto serve para

- (A) informar os hábitos alimentares dos tigres.
- (B) contar o que os gatos fazem a outros animais.
- (C) explicar o peso e o tamanho do tigre siberiano.
- (D) divulgar as características e hábitos de um felino.

#### QUESTÃO 19

No texto, o termo “snack” quer dizer

- (A) jantar.
- (B) lanche.
- (C) refeição.
- (D) salgadinho.

#### QUESTÃO 20

We're going to let you in on a little secret: although Santa Barbara has been long regarded as the playground of the rich and famous, there are also plenty of free activities in the area to entertain visitors of all ages. Museums, parks, beaches and more - just stick to our top 10 free activities list, and you won't be emptying your wallet on this trip!

Disponível em: <http://www.10best.com/destinations/california/santa-barbara/attractions/free-things-to-do/>. Acesso em: 26 de mar. de 2018.  
(Adaptado)

A respeito de Santa Bárbara, na Califórnia, esse texto trata de

- (A) esvaziar a carteira neste lugar.
- (B) atividades para ricos e famosos.
- (C) uma viagem como um playground.
- (D) opções de passeios gratuitos para todos.

# EDUCAÇÃO FÍSICA

## QUESTÃO 21

Este game permite aos jogadores entrar em um mundo onde é possível fazer construções e viver no seu próprio ambiente, usando vários tipos de blocos. Quanto à sobrevivência, seu personagem poderá ser atacado por monstros, e você terá que ir à busca de alimentos. O jogador tem apenas uma chance de vida nesse modo, se ele morrer perde tudo o que tinha e volta para a página inicial do jogo.



Disponível em: <https://br.blastingnews.com/tecnologia/2015/10/o-que-e-minecraft>. Acesso em 19 de mar. de 2018. (Adaptado.)

Uma característica comum dos jogos digitais é permitir ao jogador

- (A) uma chance de vida na fase do jogo.
- (B) situações de perigo sem danos físicos.
- (C) uma volta para a página inicial do game.
- (D) construções e vivências do seu ambiente físico.

## QUESTÃO 22



Revista Vida Ativa, ed. 18, Out. de 2017, Editora Atual. São Paulo: SP.

Esta imagem representa a ginástica de

- (A) competição.
- (B) demonstração.
- (C) condicionamento físico.
- (D) conscientização corporal.

**QUESTÃO 23**

Caracteriza-se por movimentos ágeis e complexos, onde são utilizados os pés, as mãos e elementos ginástico-acrobáticos. Diferencia-se das outras lutas por ser acompanhada de música.

Disponível em: <http://mundoeducacao.bol.uol.com.br/educacao-fisica/>. Acesso em 19 de mar. de 2018. (Fragmento)

Este fragmento de texto refere-se à luta

- (A) livre.
- (B) boxe.
- (C) caratê.
- (D) capoeira.

**QUESTÃO 24**

Um homem se equilibra como pode em cima de uma fita de 2,5 cm de largura presa a dois pontos fixos. A fita balança, ele balança junto. Joga os braços para cima, para o lado, quase como se procurasse um apoio imaginário. Ameaça cair e, quando parece que não tem outro fim senão um doloroso encontro com o chão, dá um salto quase acrobático e pousa na fita com maestria. O professor de educação física Eduardo Villanova é um praticante de slackline, esporte que nasceu nos Estados Unidos, virou moda nas praias do Rio de Janeiro e agora começa a ganhar adeptos no Brasil. Neste esporte, cada pessoa tem um ritmo, mas, na segunda aula, a maioria já consegue ficar em pé sozinha.

Disponível em: <https://gauchazh.clicrbs.com.br/geral/noticia/2010/04/exercicio-de-equilibrio-e-concentracao-o-slackline-desafia-adultos-e-criancas-2869168.html>. Acesso em: 22 de mar. de 2018.

Considerando o trecho, "...na segunda aula, a maioria já consegue ficar em pé sozinha", o próximo desafio do slackline é

- (A) jogar os braços para cima e para o lado.
- (B) atravessar o percurso (da fita) sem ajuda ou quedas.
- (C) dar um salto acrobático e pousar na fita com maestria.
- (D) equilibrar-se em cima de uma fita de 2,5 cm de largura presa a dois pontos fixos.

## QUESTÃO 25



Disponível em: <http://www.brasil2016.gov.br/pt-br/megaeventos/olimpiadas/modalidades/>. Acesso em: 21 de mar. de 2018.

A imagem apresenta o esporte

- (A) natação.
- (B) nado medley.
- (C) salto ornamental.
- (D) nado sincronizado.

# ARTE

## QUESTÃO 26



**Monumento da Independência - Parque da Independência – São Paulo – SP; Artista: Ettore Ximenez**

Disponível em: <http://www.monumentos.art.br>. Acesso em: 07 de mar. de 2018.

A escultura da imagem refere-se à

- (A) arte grega.
- (B) religião ocidental.
- (C) identidade oriental.
- (D) memória histórica brasileira.

## QUESTÃO 27



Disponível em: <https://www.fatosdesconhecidos.com.br/>. Acesso em: 05 de abr. de 2018.

O efeito dessa imagem é possível por meio da

- (A) pintura.
- (B) escultura.
- (C) fotografia.
- (D) publicidade.

**QUESTÃO 28**

Jefson Rodrigues, 27 anos, faz parte do Instituto Katiana Pena desde o início. O hip hop lhe apresentou o universo da dança quando ele era criança: assistia a vídeos e imitava as coreografias, sendo feliz assim até a adolescência.

Para ele, ter instrumentos de transformação do medo e da violência, na periferia, como o Instituto Katiana Pena, “já é grandioso. Porque as pessoas começam a enxergar algo novo, que não tinha”. Outros exemplos se mostram, completa o professor com depoimentos que ouviu dos pais de alunos: “A comunidade vê como um mecanismo de mudança para as filhas e para os filhos. E vê a possibilidade das pessoas não irem para um caminho que o bairro está mais atingido, que é a violência. Vê: meu filho pode ser igual a esse bailarino”.

Disponível em: <https://www.opovo.com.br/jornal/dom/2018/02/os-mundos-de-jefson>. Acesso em: 07 mar. 2018.

Participar de projetos de arte e cultura pode desenvolver

- (A) ideias preconceituosas e o medo.
- (B) a mente e o corpo por meio da dança.
- (C) técnicas de defesa pessoal para combater a violência.
- (D) a musculatura e o porte atlético.

**QUESTÃO 29**

Disponível em: <http://portalsme.prefeitura.sp.gov.br/Main/Noticia/Visualizar/PortalSMESP/Banda-Musical-da-EMEF-Octavio-Mangabeiraganha-certificado-de-ouro-no-Festival-Estudantil-de-Musica-Instrumental-e-Corais>. Acesso em 05 de abr. de 2018.

O profissional responsável por reger um grupo de músicos é o

- (A) compositor.
- (B) flautista.
- (C) maestro.
- (D) solista.

## QUESTÃO 30



**Grupos levam arte democrática e acessível a todos.**

Disponível em: <http://rede.g1.com/acao/noticia/2012/08/>. Acesso em 12 de mar. de 2018.

O espaço cênico apresentado na imagem acontece

- (A) na rua.
- (B) no circo.
- (C) no anfiteatro.
- (D) no auditório.



# HISTÓRIA

## QUESTÃO 31



**A pirâmide de Quéops, a maior das Grandes Pirâmides de Gizé**

Disponível em: <http://g1.globo.com/mundo/noticia/2016/01/egito-diz-que-escaneamento-das-piramides-vai-revelar-segredos.html>. Acesso em: 03 de abr. de 2018.

No Egito Antigo, a construção arquitetônica que aparece na imagem era um local destinado a

- (A) reuniões políticas.
- (B) funções funerárias.
- (C) moradia de veraneio.
- (D) estoque de alimentos.

## QUESTÃO 32



As antigas Olimpíadas eram apenas para os homens, no que diz respeito a competições de atletismo e esportes de combate. As mulheres sequer eram autorizadas a assistir.

Disponível em: [http://www.bbc.com/portuguese/noticias/2012/06/120630\\_olimpiadas\\_antigas\\_atuais\\_pai](http://www.bbc.com/portuguese/noticias/2012/06/120630_olimpiadas_antigas_atuais_pai). Acesso em: 20 de fev. de 2018.

O texto demonstra que na sociedade grega antiga as mulheres, nas competições olímpicas, eram

- (A) jogadoras de elite.
- (B) consideradas rivais.
- (C) excluídas dos eventos.
- (D) tratadas igualmente.

**QUESTÃO 33**

**Casario do Bexiga visto a partir da praça Dom Orione/1974**

Disponível em: <http://patrimoniohistorico.prefeitura.sp.gov.br/o-bexiga-e-sua-origem-multicultural/>. Acesso em: 18 fev.2018.

O Bexiga, que faz parte do distrito da Bela Vista, foi local de refúgio para escravos fugidos (e, posteriormente, ex-escravos), descanso para viajantes e de moradia para imigrantes italianos e nordestinos. Uma das características marcantes do Bexiga é que, apesar de sua localização central, até hoje lembra uma cidade do interior com suas ruas estreitas, sinuosas e sobrados geminados.

Disponível em: <http://patrimoniohistorico.prefeitura.sp.gov.br/o-bexiga-e-sua-origem-multicultural/>. Acesso em: 18 fev. 2018 (adaptado).

O texto demonstra que o bairro que aparece na imagem é caracterizado pela formação vinculada

- (A) ao costume indígena.
- (B) a diferentes culturas.
- (C) a habitações elitizadas.
- (D) aos descendentes orientais.

**QUESTÃO 34**

Para a Coroa, integrar os índios à sociedade colonial, tornando-os aliados e súditos cristãos do rei de Portugal era essencial para expandir fronteiras e garantir a soberania dos territórios conquistados. Além disso, as aldeias cumpriam também a função de assegurar aos colonos, aos missionários e à Coroa a mão de obra indígena necessária aos mais diversos tipos de tarefas. Isso se fazia de acordo com um sistema de rodízio e pagamento irrisório estabelecido pelas diversas legislações referentes aos direitos e obrigações dos índios aldeados.

ALMEIDA, Maria Regina Celestino de. Índios. Disponível em: <http://www.historiacolonial.arquivonacional.gov.br/cgi/cgilua.exe/sys/start.htm?infoid=381&sid=51>. Acesso em 3 de abr. de 2018. (adaptado).

A exploração de mão-de-obra descrita no texto é caracterizada como

- (A) trabalho servil.
- (B) emprego formal.
- (C) escravidão africana.
- (D) contratação eventual.

**QUESTÃO 35**

O sincretismo do Candomblé nasce na Bahia graças à proibição dos cultos africanos: forçados ao catolicismo, os escravos disfarçavam o culto aos orixás com imagens de santos. Em 1960, o fim da proibição difunde o culto no Brasil.

Disponível em: <https://super.abril.com.br/historia/o-livro-nao-escrito/>. Acesso em 03 de abr. de 2018.

A característica religiosa descrita no texto foi historicamente uma forma de

- (A) conversão forçada.
- (B) expressão artística.
- (C) formação majoritária.
- (D) resistência cultural.

**QUESTÃO 36**

O Brasil tem 29 mil quilômetros de rios e lagos naturalmente disponíveis para navegação, mas só usa 13 mil. Segundo a Agência Nacional de Transportes Aquaviários, o Brasil é provavelmente o país que tem a maior extensão de malha hidroviária a se expandir no mundo.

Disponível em: <https://super.abril.com.br/comportamento/por-que-o-transporte-ferroviario-e-tao-precario-no-brasil/>. Acesso em 20 de jan. de 2018.

A explicação para o pouco uso descrito é a priorização do investimento público em

- (A) comunicação telefônica.
- (B) fiscalização fronteiriça.
- (C) locomoção rodoviária.
- (D) pesquisas espaciais.


**QUESTÃO 37**

No mundo islâmico medieval, a importância da figura do mercador deve-se basicamente a duas razões: a primeira relaciona-se com o período pré-islâmico, quando os mercadores costumavam ter maior influência e prestígio sobre os demais estratos da sociedade; a segunda é que o próprio Profeta Maomé tinha sido mercador, o que levou a caracterização dessa ocupação como sendo a de uma pessoa íntegra.

BERGONCI, Ana Paul Aydos. Sob os olhos do Islã: indianos e chineses no Ahbar as-Sin wa l-Hind, do mercador Sulaiman. In: MACEDO, José Rivair. Os viajantes Medievais da Rota da Seda (sec. V-XV). Porto Alegre: UFRGS, 2011, p. 87. (adaptado).

No mundo islâmico medieval, a valorização da personagem descrita no texto está relacionada com a importância

- (A) da extração mineral.
- (B) da produção de tecidos.
- (C) das trocas comerciais.
- (D) do cultivo de alimentos.

**QUESTÃO 38**

Disponível em: <http://www.bbc.com/portuguese/vert-earth-36317992>. Acesso em 12 de fev. de 2013.

As primeiras cidades maias foram construídas no primeiro milênio antes de Cristo, e a civilização chegou a seu apogeu por volta de 600 d.C. Arqueólogos já escavaram milhares de sítios maias, a maioria espalhada por uma região na parte sul da Península de Yucatán, no México, além de Belize e Guatemala.

Disponível em: <http://www.bbc.com/portuguese/vert-earth-36317992>. Acesso em 12 de fev. de 2013.

A imagem e o texto demonstram que os maias possuíam técnicas avançadas em

- (A) produção energética.
- (B) armamento de guerra.
- (C) exploração de minérios.
- (D) edificações arquitetônicas.

.....

**QUESTÃO 39**

A nau portuguesa do século XVI pode caracterizar-se como um navio redondo de alta borda. É um navio de carga por excelência, destinado a percorrer longas distâncias em rotas conhecidas, tirando partido do aparelho pelo conhecimento prévio dos regimes de ventos, mas andava armado com peças de grande calibre.

Disponível em: <http://cvc.instituto-camoes.pt/navegairport/c15.html>. Acesso em 10 de fev. de 2018. (adaptado).

No contexto histórico português, o desenvolvimento do meio de transporte descrito no texto foi fundamental para

- (A) a expansão da religião mulçumana.
- (B) as relações comerciais transatlânticas.
- (C) a abertura das rotas caravaneiras do Saara.
- (D) as guerras de independência contra Castela.

## QUESTÃO 40

A legalidade da escravidão indígena era um dos debates mais inflamados do século XVI. Em 1537, a encíclica *Sublimis Deus*, publicada pelo papa Paulo III, proibia a escravidão dos indígenas americanos e os declarou dotados de alma e capazes de receber a fé católica.

Disponível em: <http://epoca.globo.com/cultura/noticia/2017/11/manuel-da-nobrega-era-contrario-ou-favor-da-escravidao-indigena.html>. Acesso em: 12 de fev. de 2018 (adaptado).

A decisão papal descrita no texto legitimou ações dos europeus de

- (A) contratação assalariada.
  - (B) catequização dos nativos.
  - (C) valorização da cultura local.
  - (D) rebelião de senhores de terras.
- .....

## QUESTÃO 41

Potência na produção de alimentos, o Brasil é, por isso, um dos maiores consumidores de agrotóxicos do planeta. Entre as substâncias usadas no país estão algumas potencialmente cancerígenas, parte delas banidas da União Europeia e de países como China e Índia. Os riscos à saúde vão de irritação na pele e nos olhos a dificuldades respiratórias e câncer.

Disponível em: <http://www1.folha.uol.com.br/cotidiano/2015/10/1689919-sem-controle-alimentos-circulam-no-pais-com-agrotoxico-irregular.shtml>. Acesso em 19 de fev. de 2018.

Para minimizar os efeitos da substância descrita à saúde, uma atitude doméstica correta com os alimentos é

- (A) lavar em água corrente.
- (B) consumir comida enlatada.
- (C) preferir produtos transgênicos.
- (D) armazenar na gaveta da geladeira.

## GEOGRAFIA

### QUESTÃO 42

#### Panorama atual da Imigração Boliviana

O perfil do imigrante boliviano no Brasil pode ser traçado a partir dos anos 80: Jovens de ambos os sexos, solteiros, que vem sendo atraídos pelas oportunidades de empregos que são oferecidas por brasileiros, coreanos e outros bolivianos nas oficinas de costura.

Disponível em: <https://oestrangeiro.org/2013/08/28/panorama-atual-da-imigracao-boliviana/>. Acesso em: 26 mar. 2018.

A migração citada no texto é motivada por

- (A) conflito internacional.
- (B) fenômenos naturais.
- (C) perseguição religiosa.
- (D) problemas econômicos.

---

### QUESTÃO 43



Disponível em: <http://www.agricultura.sp.gov.br/noticias/sistemas-e-manejo-de-irrigacao-mais-eficientes-para-economizar-agua-sao-pesquisados-pelo-iac>. Acesso em: 27 mar. 2018.

A técnica agrícola apresentada na imagem tem como objetivo

- (A) eliminar as pragas.
- (B) evitar a erosão do solo.
- (C) reduzir o desmatamento.
- (D) molhar as plantações.

**QUESTÃO 44**

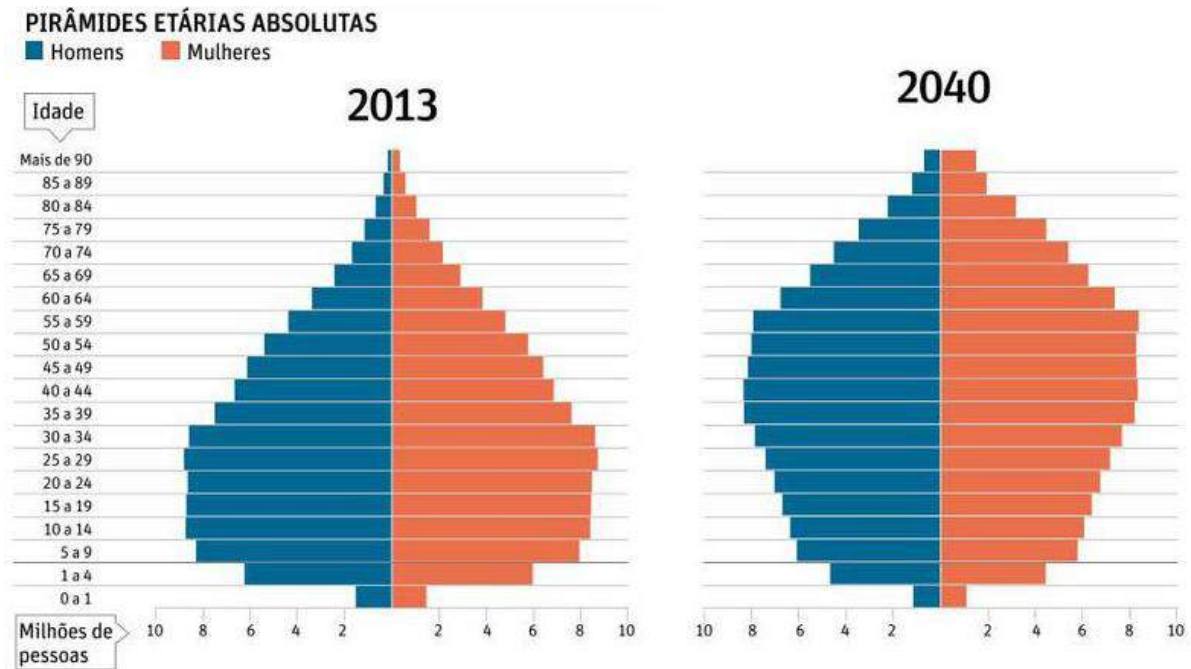
**Monte Everest – Nepal**

Disponível em: <https://www.vix.com/pt/mundo/548650/voce-consegue-ter-vista-do-monte-everest-em-tempo-real-sem-ir-ate-o-nepal/>. Acesso em: 27 mar. 2018.

O tipo de relevo apresentado na imagem se forma por meio de

- (A) deslizamentos de terra.
- (B) erupções vulcânicas.
- (C) movimentos tectônicos.
- (D) processos erosivos.

## QUESTÃO 45



Disponível em: <http://www.ebah.com.br/content/ABAAAgQEAI/a-domotica-como-meio-maximizar-a-qualidade-vida-idosos-portadores-necessidades-especiais>. Acesso em: 14 abr. 2018 (adaptado).

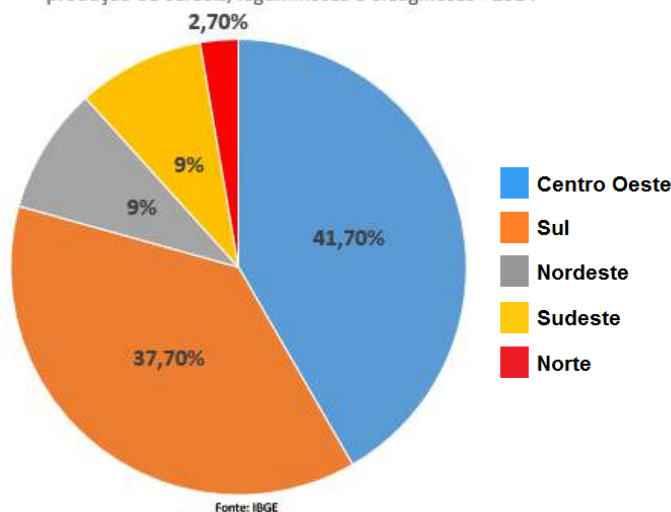
Os gráficos indicam que no Brasil está ocorrendo um processo de

- (A) aumento da mortalidade infantil.
- (B) elevação salarial.
- (C) eliminação da desigualdade econômica.
- (D) envelhecimento populacional.



## QUESTÃO 46

Participação das Grandes Regiões e Unidades da Federação na produção de cereais, leguminosas e oleaginosas - 2014



Disponível em: <http://www.brasil.gov.br/economia-e-emprego/2014/08/ibge.png/view>. Acesso em: 27 mar. 2018.

Uma característica que explica a maior produção agrícola descrita na região indicada no gráfico é

- (A) a demanda do mercado local.
- (B) o uso de técnicas tradicionais de plantio.
- (C) o fortalecimento do cultivo de subsistência.
- (D) a presença de grandes propriedades monocultiveiras.

## QUESTÃO 47

### Influência de São Paulo chega a 3 mil quilômetros

A 3,6 mil km de distância, Porto Velho (RO) e Rio Branco (AC) pertencem à região de influência de São Paulo, o grande centro urbano do País. Há 40 anos, essas capitais estavam subordinadas a Belém (PA) e Manaus (AM). O surgimento de uma rede de novas estradas, bancos, sedes de empresas e conexões aéreas diárias, permite hoje que um produto de Rondônia chegue à capital paulista, via terrestre, antes do navio aportar no Amazonas.

Disponível em: <http://sao-paulo.estadao.com.br/noticias/geral,influencia-de-sao-paulo-chega-a-3-mil-quilometros,257787>. Acesso em: 28 mar. 2018 (adaptado).

A influência da capital paulista descrita no texto é explicada porque a cidade de São Paulo possui

- (A) polos de turismo ferroviário.
- (B) mercado consumidor atrativo.
- (C) bairros com diversidade étnica.
- (D) portos exportadores intercontinentais.

QUESTÃO 48

Densidade Demográfica – 2010



Disponível em: [https://atlascolar.ibge.gov.br/images/atlas/mapas\\_brasil/brasil\\_densidade\\_demografica.pdf](https://atlascolar.ibge.gov.br/images/atlas/mapas_brasil/brasil_densidade_demografica.pdf). Acesso em: 28 mar.2018.

O mapa demonstra que a maior concentração populacional está localizada

- (A) na floresta amazônica.
- (B) nas regiões litorâneas.
- (C) no extremo sul.
- (D) nos limites internacionais.

**QUESTÃO 49**

O desflorestamento, o uso intensivo de terras para a agricultura e a pecuária e a retirada de lenha para fins energéticos e de mineração estão entre os fatores que originaram o processo de desertificação na Caatinga.

Disponível em: <http://www.ihu.unisinos.br/159-noticias/entrevistas/566589-desertificacao-da-caatinga-gera-impactos-socioeconomicos-entrevista-especial-com-humberto-barbosa.htm>. Acesso em 28 mar. 2018.



Disponível em: <https://epoca.globo.com/tudo-sobre/noticia/2017/05/caatinga.html>.

Uma política pública capaz de minimizar os impactos ambientais no bioma citado no texto e presente na imagem é

- (A) a criação de áreas de proteção.
- (B) a legalização da caça esportiva.
- (C) o financiamento do cultivo mecanizado.
- (D) o investimento na produção madeireira.

## QUESTÃO 50

**Pampas gaúchos: Os campos sulinos do Rio Grande**

Os campos do Rio Grande do Sul são chamados de pampas gaúchos. O bioma formado por esses campos, que se estendem também por Uruguai e Argentina, é denominado Pampa, termo indígena quéchua que significa região plana. A vegetação predominante é de gramíneas, leguminosas e compostas, compondo uma paisagem homogênea.

Disponível em: <https://www.xapuri.info/geografia/pampas-gauchos-os-campos-sulinos-do-riogrande/>; <http://www.klimanaturali.org/2011/09/bioma-pampa.html>; <http://ecopan.sites.ufms.br/>; <http://www.brasilnoato.com.br/floresta-amazonica-possui-montanhas-desconhecidas/>; <http://www.oeco.org.br/wp-content/uploads/2016/05/Fig-D-Rita-Souza.jpg>. Acesso em: 28 mar. 2018.

A imagem que retrata o bioma descrito no texto é a

(A)



(B)



(C)



(D)

