

LINGUAGENS

QUESTÃO 1

Clarice Lispector

Clarice Lispector nasceu em Tchetchelnik, Ucrânia, no dia 10 de dezembro de 1920. Chegou ao Brasil em março de 1922, passou a infância na cidade do Recife e em 1937 mudou-se para o Rio de Janeiro, onde se formou em Direito. Estreou na literatura ainda muito jovem com o romance "Perto do Coração Selvagem" (1943).

Começou a colaborar na imprensa em 1942 e, ao longo de toda a vida, nunca se desvinculou totalmente do jornalismo. Entre suas obras mais importantes estão a reunião de contos em "A Legião Estrangeira" (1964), "Laços de Família" (1972), os romances "A Paixão Segundo G.H." (1964) e "A Hora da Estrela" (1977). Faleceu no Rio de Janeiro no dia 9 de dezembro de 1977.

MOSER, Benjamin. **Clarice**. São Paulo: Cosac Naify, 2009.

Este texto é

- (A) uma notícia.
- (B) uma reportagem.
- (C) uma biografia.
- (D) uma crônica.

QUESTÃO 2

A fábula do porco-espinho

Durante a Era Glacial, muitos animais morriam por causa do frio. Os porcos-espinhos, percebendo a situação, resolveram se juntar em grupos, pois assim se agasalhariam e se protegeriam mutuamente. Mas os espinhos de cada um feriam os companheiros mais próximos, justamente os que ofereciam mais calor. Por isso decidiram se afastar uns dos outros e começaram a morrer congelados.

Então precisaram fazer uma escolha: ou desapareciam da Terra ou aceitavam os espinhos dos companheiros. Com sabedoria, decidiram voltar a ficar juntos. Aprenderam assim a conviver com as pequenas feridas que a relação com um indivíduo muito próximo podia causar, já que o mais importante era o calor do outro e assim sobreviveram.

Disponível em: <https://www.paulinas.org.br/familia-crista/ptbr/?system=news&id=3835&action=read>. Acesso em: 12 abr. 2017.

O fato narrado que deu início a história dos porcos-espinhos foi eles

- (A) começarem a morrer congelados por causa do frio.
- (B) aprenderem a conviver com seus companheiros.
- (C) resolverem se juntar em grupos para se proteger.
- (D) sobreviverem ao frio mesmo com as pequenas feridas.

QUESTÃO 3




Disponível em: <http://acontecendoaqui.com.br/propaganda>. Acesso em: 27 abr. 2017.

A mensagem principal veiculada pela propaganda é:

- (A) Crie o mosquito da dengue e do Zika vírus em vasos com plantas.
- (B) Elimine a água parada utilizando os vasos com plantas de ponta cabeça.
- (C) Evite água parada para se prevenir do mosquito da Dengue e do Zika vírus.
- (D) Deixe a água acumulada nos vasos de sua casa para proliferação do mosquito.

QUESTÃO 4



Disponível em: <http://www1.folha.uol.com.br/ilustrada/cartum/cartunsdiarios/#2/4/2017>. Publicado em 4 abr 2017. Acesso em: 12 abr. 2017.

Na tirinha, o humor está no fato de o peixe

- (A) fingir-se de morto.
- (B) ser enganado pela vovó.
- (C) chamar a vovó várias vezes.
- (D) ficar de ponta cabeça no aquário.

QUESTÃO 5

Distante do mundo

O número de estrangeiros em visita ao Brasil está estagnado, enquanto o setor e o governo vivem em conflito.

Se dependesse apenas de seus recursos naturais, o Brasil seria a nação mais competitiva no turismo mundial. Contribuem suas praias, florestas, clima. Considerado o conjunto de condições para o desenvolvimento da atividade, o País cai, porém, para a 51ª posição. Entre os problemas mais graves estão a infraestrutura de transporte deficiente e a baixa competitividade de preços das passagens aéreas, hotéis, combustíveis e os efeitos da tributação sobre os custos.

Disponível em: <https://www.cartacapital.com.br/revista/766/distante-do-mundo-4509.html>. Acesso em: 17 abr. 2017 (adaptado).

No título “Distante do mundo”, a expressão dá ideia de

- (A) tempo.
- (B) lugar.
- (C) causa.
- (D) modo.

QUESTÃO 6**De meia-tigela**

Os senhores feudais temiam que a extensão de suas terras diminuísse com o passar das gerações, por isso concediam os seus direitos de herança ao seu filho primogênito. Com isso, os demais integrantes da prole do nobre ficavam à mercê de alguma atividade ou posto eclesiástico que lhes garantisse o sustento.

Foi justo nesse processo de exclusão sócioeconômica que a nossa “maldosa” expressão passou a ganhar a boca de vários castelos medievais lusitanos. Todo aquele filho de nobre que não herdava terras era conhecido como “fidalgo de meia-tigela”. Isso porque ele também era proibido de participar de um importante banquete ritual onde se fazia a quebra de todos os pratos, louças e tigelas que serviam as refeições. Por fim, sobrava ao pobre filho de nobre os restos de sua posição social, ou seja, as meias-tigelas.

SOUSA, Rainer. Disponível em: <http://brasilescola.uol.com.br/curiosidades/de-meia-tigela.htm>. Acesso em 28: abr. 2017. (adaptado).

No segundo parágrafo, a palavra “isso” se refere

- A) aos direitos e heranças deixados para as gerações.
- B) aos nobres que ficavam à mercê de algum posto eclesiástico.
- C) ao processo de exclusão socioeconômica da expressão “maldosa”.
- D) ao filho de nobre que não herdava as terras, o “fidalgo de meia-tigela”.

QUESTÃO 7**Livros que poderiam ter finais diferentes**

Sabe aquele livro que você amou, mas se pudesse daria um final diferente pra ele? A *Atrê* pensa igualzinho a você! Por isso, selecionou 1 história que não teve um desfecho como gostaríamos e pensamos em um final diferente para ele. Olha só! Atenção: essa matéria contém **SPOILERS!**

Como Eu Era Antes de Você - Jojo Moyes

Fala sério: é impossível não se apaixonar pela relação entre os protagonistas Louisa Clark e Will Traynor. Os dois se aproximam após a *girl* se tornar cuidadora de Will, que ficou tetraplégico após um acidente. Ok, nós entendemos o final do livro e os motivos para a decisão de Will, mas praticamente 99,99% dos leitores gostariam que o *boy* mudasse de ideia para viver ao lado da doce e divertida Clark. Concordam?

Disponível em: <http://atrevida.uol.com.br/divirta-se/se-liga/5-livros-que-poderiam-ter-finais-diferentes/12165>. Acesso em: 24 abr. 2017 (adaptado).

Passagens do texto como “sabe aquele livro que você amou”, “fala sério”, revelam um locutor que faz uso da linguagem predominantemente

- (A) científica.
- (B) informal.
- (C) formal.
- (D) técnica.

QUESTÃO 8**Sudeste volta a ter chuva nos próximos dias**

A semana que começou mais seca na Região Sudeste vai terminar com o retorno da chuva em muitas áreas. Uma nova frente fria está prevista para chegar ao litoral paulista nesta quinta-feira (6) e também vai levar chuva para áreas de Minas Gerais e do Rio de Janeiro. A umidade deve aumentar no Espírito Santo no final da semana.

Disponível em: <https://www.climatempo.com.br>. Acesso em: 30 abr. 2017.

No texto, a locução verbal “vai terminar” produz efeito de certeza e ideia de futuro. O verbo que pode substituí-la sem alteração de sentido é

- (A) terminou.
- (B) terminará.
- (C) terminaria.
- (D) termina.

QUESTÃO 9**Como fazíamos sem vaso sanitário**

Em 1597, John Harington construiu um WC (water closet, em inglês, ou armário de água, em português) que tinha um assento de madeira, uma caixa d'água e uma válvula de descarga. Harington instalou sua obra-prima para rainha Elizabeth I, mas sem encanamento ou rede de esgoto, o destino das obras reais era o mesmo do de qualquer cidadão: a rua.

Com o tempo, os governantes perceberam que tanta falta de higiene levava doenças à população e passaram a investir em sistemas de encanamento.

Na Europa, sistemas de encanamento começaram a funcionar em 1850, permitindo o escoamento das águas do WC direto para o subterrâneo.

SOALHEIRO, Bárbara. **Como fazíamos sem...** São Paulo, SP: Panda Books, 2006.

No texto, os termos “começaram a funcionar” concordam com “sistemas de encanamento”. A frase em que a concordância verbal está de acordo com a norma padrão é:

- (A) As válvulas de descarga passou a existir em 1597.
- (B) Os assentos de madeira foi construído em 1597.
- (C) Muitas doenças da população eram causadas por falta de higiene.
- (D) Os governantes da Europa começou a perceber muita falta de higiene.

QUESTÃO 10**Romãozinho**

Tinha todos os dentes, fisionomia fechada, hábitos errantes, nenhuma bondade no coração.
Divertimento era maltratar animais e destruir plantas.
Menino absolutamente perverso.
Um meio-dia, a mãe mandou-o levar o almoço ao pai, que trabalhava num roçado, distante de casa.
Romãozinho foi, de má vontade.

CASCUDO, Luís da Câmara. **Lendas Brasileiras para jovens**. São Paulo, SP: Global, 2006.

O termo “perverso” pode ser substituído, sem alteração de sentido, por

- (A) gentil.
 - (B) cordial.
 - (C) teimoso.
 - (D) malvado.
-

QUESTÃO 11**Biography**

Demi Lovato is a singer and actress who starred on Disney Channel's original series 'Sonny with a Chance'. As an adult, she's become a successful recording artist with hits like 'Skyscraper', 'Cool for the Summer' and 'Heart Attack.'

Disponível em: <http://www.biography.com/people/demi-lovato-481444>. Acesso em: 19 abr. 2017.

De acordo com o texto, a personalidade é

- (A) cantora e atriz.
- (B) médica e cantora.
- (C) pintora e cantora.
- (D) apresentadora e atriz.

QUESTÃO 12



Disponível em: <http://teasleyes.typepad.com/.a/6a00d834524ed969e2019104c50be3970c-pi>. Acesso em: 25 abr. 2017.

O texto é

- (A) uma carteira de trabalho.
- (B) uma carteira de motorista.
- (C) um cartão de identificação.
- (D) um documento de identidade.

QUESTÃO 13

Paulista Central Park



Ibirapuera Park Lake

The Paulista Central Park, has the touch of Oscar Niemeyer, in the heart of the town. It is the most important park in the city, a green island in the concrete sea. Ideal for cycling, skating and walking, or just to read a book under a tree.

Disponível em: <http://www.thebrazilguide.com/things-to-do/things-to-do-in-sao-paulo>. Acesso em: 20 abr. 2017.

A frase “It is the most important park in the city” significa que o Parque Ibirapuera é

- (A) o parque mais completo da cidade.
- (B) o parque mais interativo da cidade.
- (C) o parque mais importante da cidade.
- (D) o parque mais próximo do centro da cidade.

QUESTÃO 14



Disponível em: <https://partners.wrap.org.uk/assets/3823/>. Acesso em: 20 abr. 2017.

Esse texto serve para

- (A) instruir as pessoas a usar embalagens plásticas.
- (B) convencer as pessoas a reciclar garrafas plásticas.
- (C) descrever as garrafas plásticas como produtos tóxicos.
- (D) explicar os procedimentos de reciclagem de produtos.

QUESTÃO 15**O que é Capoeira?**


É dança? É jogo? É luta? É tudo isso ao mesmo tempo? Parece que sim, e é isso que a torna tão complexa, tão rica, tão surpreendente. É luta, astúcia e muita malícia! A Capoeira é uma manifestação da cultura popular brasileira que reúne características muito peculiares:

1. É um misto de luta–jogo–dança;
2. O ritmo e as características do jogo são regidos pelo toque do berimbau, instrumento preponderante na orquestra de capoeira (que inclui também o pandeiro, o atabaque, além do agogô, o reco-reco, o adufe etc.)
3. Os cânticos (às vezes acompanhados de palmas) também têm função importante na determinação do tipo de jogo.

Disponível em: http://www.arteculturacapoeira.com.br/site/index.php?option=com_content&view=article&id=53&Itemid=86. Acesso em: 21 abr. 2017.

No texto, a informação principal é

- (A) “A Capoeira é uma manifestação da cultura popular brasileira”.
- (B) “É um misto de luta–jogo–dança.”
- (C) “O ritmo e as características do jogo são regidos pelo toque do berimbau”.
- (D) “Os cânticos também têm função importante na determinação do tipo de jogo.”

QUESTÃO 16

Disponível em: <http://olimpiadasdorio2016.com>. Acesso em: 25 abr. 2017.

A legenda mais apropriada para a foto é:

- (A) Seleção chinesa de vôlei garante vaga em torneio.
- (B) Seleção brasileira de futebol garante vaga em torneio.
- (C) Seleção brasileira de vôlei garante vaga em torneio.
- (D) Seleção brasileira de handebol garante vaga em torneio.

QUESTÃO 17**Leia os textos I e II****TEXTO I****O esporte na vida da criança**

Os especialistas recomendam a prática do esporte de uma maneira equilibrada, respeitando as capacidades e as habilidades motoras de cada criança. O esporte não deve ser imposto nem visto como obrigação ou como imposição do desejo dos pais de transformar seus filhos em atletas. A criança tem que gostar e se divertir com o esporte que escolher

O esporte ajuda as crianças com problemas de relacionamento e a descobrir o corpo. É normal que a criança comece no esporte influenciado por amigos, pelos meios de comunicação, pelos pais, etc. Mas temos que levar em conta que a criança, sobretudo, divirta-se. O esporte deve ser introduzido na vida da criança de uma forma gradual, para que se dê por satisfeitas suas necessidades lúdicas.

TEXTO II**Benefícios do esporte**

- 1 - fazer amigos e a ingressar na sociedade;
- 2 - aprender e a seguir regras;
- 3 - superar a timidez ou a vergonha;
- 4 - frear os seus impulsos e ansiedade;
- 5 - ser mais colaboradora e menos individualista ou egoísta;
- 6 - reconhecer e respeitar que existe alguém que sabe mais que ela;
- 7 - melhorar a sua coordenação motora;
- 8 - crescer física e emocionalmente;
- 9 - corrigir possíveis defeitos físicos;
- 10 - potencializar bons hábitos;
- 11 - ter responsabilidades e compromissos.

Disponível em: <https://br.guiainfantil.com/educacao-fisica/184-os-beneficios-do-esporte-para-as-criancas.html>. Acesso em: 24 abr. 2017 (adaptado).

A comparação entre os dois textos revela que

- (A) o texto I e o texto II recomendam a prática do esporte para crianças.
- (B) o texto I e o texto II apresentam a influência de amigos na escolha da prática do esporte.
- (C) o texto I apresenta recomendações da prática do esporte e o texto II revela os benefícios do esporte.
- (D) o texto I destaca que o esporte ajuda a criança a ter responsabilidades e o texto II apresenta as recomendações da prática do esporte.

QUESTÃO 18

Observe a fotografia:



Disponível em: <http://www.sitelimitzero.com/>. Acesso em: 17 mai 2017.

Na fotografia, os objetos culturais pertencem ao grupo étnico

- (A) africano.
- (B) indígena.
- (C) japonês.
- (D) português.

QUESTÃO 19

Disponível em: <http://www.obrasdarte.com/pontilhismo-a-arte-de-izabel-litieri-por-edmundo-cavalcanti/>. Acesso em: 16 maio 2017.

A técnica utilizada, na obra, pela artista plástica Izabel Litieri, é do

- (A) enevoadado.
- (B) pontilhismo.
- (C) sombreado.
- (D) texturizado.

QUESTÃO 20

Observe as imagens:



Disponível em: http://www.wikiwand.com/pt/Heavy_metal. Acesso em: 18 maio 2017.

Disponível em: <http://multishow.globo.com/platb/rock-in-rio/page/12/>. Acesso em: 18 maio 2017.

Disponível em: <http://www1.folha.uol.com.br/ilustrada/2013/04/1264984-zeca-pagodinho-canta-classicos-do-samba-em-show-que-celebra-seus-30-anos-de-carreira.shtml>. Acesso em: 18 maio 2017.

Disponível em: <http://goianiaconvention.com.br/wp-content/uploads/2014/12/hip-hop-dancers.jpg>. Acesso em: 18 maio 2017.

Os ritmos musicais, na ordem em que aparecem, são

- (A) rock, rap, samba e hip hop.
- (B) sertanejo, pop, samba e hip hop.
- (C) rock, hip hop, reggae e axé.
- (D) sertanejo, hip hop, samba, rap.

MATEMÁTICA

QUESTÃO 21

A biblioteca de uma comunidade tinha 131 livros quando foi inaugurada. Os moradores fizeram uma campanha para arrecadar mais livros e a biblioteca passou a ter 328 livros. Quantos livros a biblioteca recebeu com essa campanha de doação?

- (A) 197
 - (B) 217
 - (C) 359
 - (D) 459
-

QUESTÃO 22

Um artista fez uma escultura que tem a forma de um sólido geométrico de 6 faces. As 4 faces laterais são retangulares. Esse sólido é

- (A) um prisma de base triangular.
 - (B) um prisma de base quadrangular.
 - (C) uma pirâmide de base triangular.
 - (D) uma pirâmide de base quadrangular
-

QUESTÃO 23

No pátio de uma escola serão colocadas 63 peças cerâmicas no piso. Elas serão colocadas em 9 fileiras. A quantidade de peças que terá cada fileira é

- (A) 7.
- (B) 9.
- (C) 72.
- (D) 567.

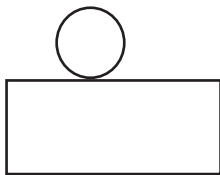
QUESTÃO 24

Joana desmontou uma figura tridimensional construída com cartolina, representada na imagem

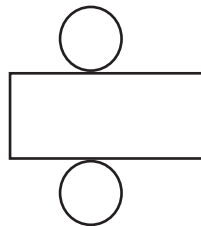


A planificação obtida por Joana foi

(A)



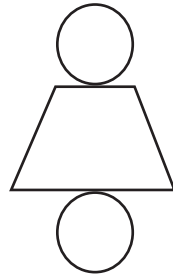
(B)



(C)



(D)



QUESTÃO 25

Bruno Fratus foi o quarto colocado em Londres 2012, faltando apenas **dois centésimos** para ficar com a medalha de bronze.

Disponível em: <http://www.bestswim.com.br/2017/03/31/arilson-silva-promove-palestra-de-treinamento-na-hebraica>. Acesso em: 11 abr. 2017 (adaptado).

O número destacado na notícia é representado por

- (A) 0,02.
- (B) 0,2.
- (C) 2.
- (D) 200.

QUESTÃO 26

Leticia vai colocar uma moldura de madeira em volta do quadro de formato quadrado que ela pintou. O lado desse quadro mede 1,5 m. Para estimar o gasto com a moldura, ela precisa saber qual é a medida do contorno do quadro. Qual é essa medida, em metros?

- (A) 1,5
 - (B) 3,0
 - (C) 2,25
 - (D) 6,0
-

QUESTÃO 27

Manuela gastou R\$ 30,00 com uma refeição no restaurante. Ela deu 10% do valor gasto de gorjeta para o garçom. O valor que Manuela deu de gorjeta foi

- (A) R\$ 40,00.
 - (B) R\$ 10,00.
 - (C) R\$ 6,00.
 - (D) R\$ 3,00.
-

QUESTÃO 28

Leia o trecho da notícia:

A Associação Brasileira da Indústria de Chocolates, Cacau, Amendoim, Balas e Derivados (ABICAB) calcula que o brasileiro consome, em média, 2,5 kg de chocolate ao ano.

Disponível em: <https://www.reporterdiario.com.br/noticia/2336746/chocolate-causa-espinhas-mito-ou-verdade/>. Acesso em: 21 abr. 2017 (adaptado).

A quantidade média de chocolate, em gramas, consumida pelo brasileiro é

- (A) 25 000.
- (B) 2 500.
- (C) 250.
- (D) 25.

QUESTÃO 29

A tabela apresenta os dados referentes à matrícula de alunos em duas oficinas nos 3 primeiros meses do ano.

Quantidade de alunos matriculados nas oficinas no 1º trimestre

| MÊS | OFICINAS | |
|--------------|------------|-----------|
| | ARTESANATO | CULINÁRIA |
| Janeiro | 36 | 25 |
| Fevereiro | 31 | 37 |
| Março | 28 | 18 |
| TOTAL | 95 | 80 |

Fonte: Dados fictícios

A oficina que teve o maior número de matrículas, e o correspondente mês, foi a de

- (A) artesanato, em janeiro.
- (B) artesanato, em março.
- (C) culinária, em fevereiro.
- (D) culinária, em março.

QUESTÃO 30

Marcelo carregava 2,2 kg de alimentos em sua sacola de compras. Ele resolveu comprar 0,5 kg de tomates e 1,4 kg de carne. Após essa compra, a quantidade de alimentos, em kg, que ele passou a carregar foi de

- (A) 1,9.
- (B) 2,2.
- (C) 3,1.
- (D) 4,1.