

LINGUAGENS

QUESTÃO 1



Disponível em: <http://www.tvsinopse.kinghost.net/art/m/mauricio-de-sousa.htm>. Acesso em: 25 de set. de 2017.


Mauricio de Sousa é um cartunista e empresário brasileiro. Criou a “Turma da Mônica”, e vários outros personagens de histórias em quadrinhos. **Ele** é membro da Academia Paulista de Letras, ocupando a cadeira nº 24. É o mais famoso e premiado autor brasileiro de história em quadrinhos.

Disponível em: https://www.ebiografia.com/mauricio_de_sousa/. Acesso em: 25 set. 2017. (Adaptado)

Na frase, “**Ele** é membro da Academia Paulista de Letras, ocupando a cadeira nº 24”, o termo em destaque pode ser substituído por

- (A) Turma da Mônica.
- (B) Mauricio de Sousa.
- (C) vários personagens.
- (D) histórias em quadrinhos.

QUESTÃO 2



<http://jeangalvao.blogspot.com.br/>. Acesso em: 15 set. 2017.

O menino de boné está triste porque

- (A) o brinquedo gira-gira está sendo usado.
- (B) o brinquedo gira-gira está quebrado.
- (C) a mulher decidiu correr na rua.
- (D) a esteira do homem quebrou.

QUESTÃO 3



Disponível em: <http://www.encartale.com.br/produtos>. Acesso em: 26 set. 2017.

Na placa, pede-se para

- (A) plantar grama.
- (B) pisar na grama.
- (C) cortar a grama.
- (D) não pisar na grama.

QUESTÃO 4



Disponível em: <http://areadetreino.com.br/correr-no-calor-requer-cuidados-especiais/>. Acesso em: 15 set. 2016.

Disponível em: <https://www.terra.com.br/noticias/climatempo/sao-paulo-pode-bater-novo-recorde-de-calor-nesta-sexta-feira,8378effaa48091c16dd172e154acc4a8q4ska6j.html>. Acesso em: 15 set. 2017.

Esse texto é uma


- (A) notícia.
- (B) entrevista.
- (C) carta.
- (D) fábula.

QUESTÃO 5

VOCÊ SABIA QUE...

...o Brasil é o país com maior diversidade de árvores no planeta? Foi o que mostrou um estudo de uma organização internacional sem fins lucrativos, nunca feito antes: nosso território tem 8.715 espécies de árvores – isso representa 14% das 60.065 espécies que existem no mundo. O segundo lugar é da Colômbia (5.776), seguida pela Indonésia (5.142). A região norte do Canadá e Groelândia têm o menor número de espécies, com menos de 1,4 mil.

Revista Recreio. 895, ano 17, 4 mai. 17.



Disponível em: <https://ciberia.com.br/estudo-revela-que-o-brasil-tem-a-maior-diversidade-de-arvores-do-planeta-14583>. Acesso em: 15 set. 2017.

Qual é o país que tem a maior diversidade de árvores no planeta?

- (A) Brasil.
- (B) Canadá.
- (C) Colômbia.
- (D) Indonésia.

QUESTÃO 6

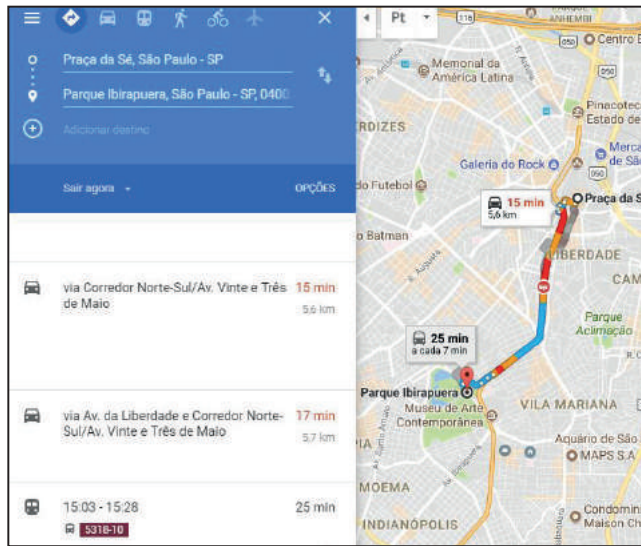


Disponível em: <http://agenciaalagoas.al.gov.br/noticia/item/>. Acesso em: 25 set. 2017.

Na foto as crianças estão

- (A) bravas.
- (B) felizes.
- (C) tristes.
- (D) nervosas.

QUESTÃO 7



Disponível em: <https://www.google.com.br/maps/dir/>. Acesso em: 15 ago. 2017.

Esse texto serve para

- (A) explicar o caminho para chegar ao Parque Ibirapuera.
- (B) informar a população sobre a abertura do parque.
- (C) recomendar o passeio para o Parque Ibirapuera.
- (D) divulgar um parque na cidade de São Paulo.

QUESTÃO 8



Disponível em: <http://focosaudeonline.com/>. Acesso em: 14 ago. 2017.

No anúncio, o termo “Siga-me” tem sentido de

- (A) um pedido.
- (B) uma dúvida.
- (C) um conselho.
- (D) uma opinião.

QUESTÃO 9

A LENDA DA MANDIOCA

Mani era uma linda indiazinha, neta de um grande cacique de uma tribo antiga. Desde que nasceu andava e falava. De repente morreu sem ficar doente e sem sofrer. A indiazinha foi enterrada dentro da própria oca onde sempre morou e como era a tradição do seu povo. Todos os dias os índios da aldeia iam visitá-la e choravam sobre sua sepultura, até que nela surgiu uma planta desconhecida, então os índios resolveram cavar para ver que planta era aquela, tiraram-na da terra e ao examinar sua raiz viram que era marrom, por fora, e branquinha por dentro. Após cozinharem e provarem a raiz entenderam que se tratava de um presente do deus Tupã. A raiz de Mani veio para saciar a fome da tribo. Os índios deram o nome da raiz de Mani e como nasceu dentro de uma oca ficou Manioca, que hoje conhecemos como mandioca.

Disponível em: <http://www.sohistoria.com.br/lendasemitos/mandioca/>. Acesso em 25 de set. de 2017.

O fato narrado que dá início à lenda da mandioca foi

- (A) a morte de Mani.
- (B) o nascimento de Mani.
- (C) o presente do deus Tupã.
- (D) o surgimento da planta desconhecida.

QUESTÃO 10




Disponível em: <http://www.surdosol.com.br/wp-content/uploads/2017/09/7648c91e-7c01-4537-9138-05e2f2c76e48.jpg>. Acesso em: 25 set. 2017. (adaptado)

No anúncio, o local do evento será

- (A) das 8h30 às 16h.
- (B) no dia 24 de setembro.
- (C) no Parque Ecológico da Moçota.
- (D) na sensibilização da pessoa surda.

QUESTÃO 11

AKITA INU FICHA TÉCNICA

	Tamanho: de 61 cm a 67 cm	Temperamento: calmo, fiel, dócil e receptivo
	Peso: de 49 kg a 58 kg	Pelagem: pelo externo duro e reto, subpelo macio e denso
	Cores: vermelho-fulvo, tigrado e branco	

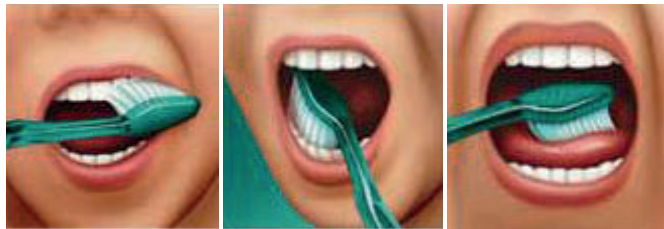
Revista Meu Pet. Edição 50. Editora Escala, p.18.

Quanto pesa um cachorro Akita?

- (A) de 49 kg a 58 kg.
- (B) de 61 cm a 67 cm.
- (C) 49 kg a 61cm.
- (D) 58 kg a 67 cm.

QUESTÃO 12

QUAL É A MANEIRA CERTA DE ESCOVAR?



- Escove as superfícies voltadas para a bochecha dos dentes superiores e, depois, dos inferiores.
- Escove as superfícies internas dos dentes superiores e, depois, dos inferiores.
- Em seguida, escove as superfícies de mastigação.
- Para ter hálito puro, escove também a língua, local onde muitas bactérias ficam alojadas.

Disponível em: <http://www.colgate.com.br/pt/br/oc/oral-health/>. Acesso em: 26 set. 2017.

Esse texto serve para

- (A) indicar o uso da pasta de dente.
- (B) ensinar como escovar os dentes.
- (C) mostrar a marca da escova de dente.
- (D) aconselhar a limpeza diária dos dentes.

QUESTÃO 13

Esta pintura é sobre uma língua universal onde todos os surdos no mundo estão unidos. “Nós apoiamos e reconhecemos nossa língua de sinais, considerando que cada país tem sua própria língua”, afirma a artista Nancy Rourke.

Disponível em: <http://www.nancyrourke.com/globalsigns.htm>. Acesso em: 27 set. 2017. (adaptado)

De acordo com o texto, a obra representa

- (A) o ouvinte com sua língua e cultura própria.
- (B) a língua universal dos surdos unidos no mundo.
- (C) a identificação da língua de sinais de cada país.
- (D) o apoio e o reconhecimento da língua portuguesa.

QUESTÃO 14

Fernanda Machado é uma artista plástica, atriz e poetisa surda brasileira. Ela explora em suas obras sua experiência com a surdez. Pinturas, esculturas e gravuras que trazem à tona desde representações de grandes nomes da história da educação de surdos no Brasil até questões relativas às barreiras encontradas e superadas por pessoas surdas. “As telas e esculturas são fruto de sua sensibilidade e percepção artística dentro da cultura visual e gestual da Língua Brasileira de Sinais (LIBRAS), tendo como objetivo revelar ao público um pouco da experiência cultural dos surdos brasileiros”, diz o site oficial da artista.

Disponível em: <https://culturasurda.net/2011/12/12/fernanda-machado/>. Acesso em: 27 set. 2017.

Qual é a profissão de Fernanda Machado?

- (A) médica, poetisa e atriz.
- (B) cantora, artista plástica e atriz.
- (C) professora, artista plástica e atriz.
- (D) artista plástica, atriz e poetisa surda.

QUESTÃO 15



Disponível em: <https://sportsregras.com/basquetebol-historia-regras/>. Acesso em: 16 ago. 2017.

A modalidade esportiva apresentada na imagem é

- (A) futebol.
- (B) voleibol.
- (C) handebol.
- (D) basquetebol.

QUESTÃO 16



Disponível em: <http://www.flowacademy.co.nz>. Acesso em: 25 set. 2017.

O esporte de aventura representado na imagem é

- (A) vôlei.
- (B) parkour.
- (C) futebol.
- (D) corrida.

QUESTÃO 17

Disponível em: <http://www.istockphoto.com/br/fotos/capoeira?excludenudity=true&mediatype=photography&phrase=capoeira&sort=mostpopular>. Acesso em: 25 set. 2017.


DE ORIGEM AFRICANA, A CAPOEIRA É A ARTE MARCIAL QUE MAIS SE PRÁTICA NO BRASIL

A capoeira é uma arte marcial originada no século XVII. Embora tenha surgido na África, o jogo foi trazido para o Brasil por escravos e recebeu o nome em terras tupiniquins. Ao contrário das outras lutas, ela é considerada uma expressão cultural. Além dos golpes e movimentos ágeis, a música também está presente e é considerada essencial na prática do esporte. Os capoeiristas não aprendem somente a lutar, mas também a cantar e tocar instrumentos como o berimbau, típico desta manifestação cultural. Em todo o país, é possível encontrar as famosas “rodas de capoeira”.

Disponível em: <http://globoesporte.globo.com/pe/caruaru-regiao/noticia/2013/09/de-origem-africana-capoeira-e-arte-marcial-que-mais-se-pratica-no-brasil.html>. Acesso em: 16 ago. 2017.

A capoeira é considerada expressão cultural porque

- (A) é a arte marcial mais praticada no Brasil.
- (B) possui golpes e movimentos ágeis.
- (C) é formada por famosas “rodas de capoeira” em todo país.
- (D) possui golpes de luta, além da música ser essencial nesta prática esportiva.

QUESTÃO 18

Disponível em: <http://jardinsdepetropolis.com.br/blog/ipe>. Acesso em: 18 set. 2017.

A cor predominante na fotografia é classificada como

- (A) primária e fria.
- (B) primária e quente.
- (C) secundária e fria.
- (D) secundária e quente.

QUESTÃO 19



Disponível em: <https://www.onthewall.com.br> . Acesso em: 18 jul. 2017.

A cor predominante na fotografia é classificada como

- (A) fria e primária.
- (B) fria e secundária.
- (C) quente e primária.
- (D) quente e secundária.

QUESTÃO 20



Disponível em: <http://www.patriciapessenda.com.br/> . Acesso em: 18 jul. 2017.

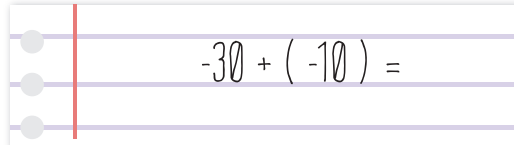
A linguagem artística representada na fotografia é

- (A) dança.
- (B) música.
- (C) teatro.
- (D) ginástica.

MATEMÁTICA

QUESTÃO 21


Observe a operação registrada no caderno:


$$-30 + (-10) =$$

O resultado dessa operação é

- (A) - 40.
- (B) - 20.
- (C) 20.
- (D) 40.

QUESTÃO 22



Disponível em: slideplayer.es/slide/2316862/. Acesso em: 23 set. 2017.

Um prisma que tem seis faces laterais possui, como base, o

- (A) hexágono.
- (B) pentágono.
- (C) retângulo.
- (D) triângulo.

QUESTÃO 23

Camila gasta R\$ 400,00 por mês com a mensalidade da faculdade. Se Camila realizar o pagamento até 5 dias antes do vencimento, recebe um desconto de 20 % no valor da mensalidade.

O valor desse desconto é de

- (A) R\$ 320,00.
- (B) R\$ 420,00.
- (C) R\$ 80,00.
- (D) R\$ 20,00.

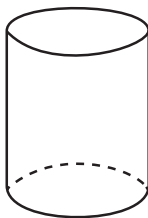
QUESTÃO 24

A flexão com halteres pode ser realizada em um banco inclinado como se observa na ilustração. O ângulo **a**, tal como representado na figura, é classificado como

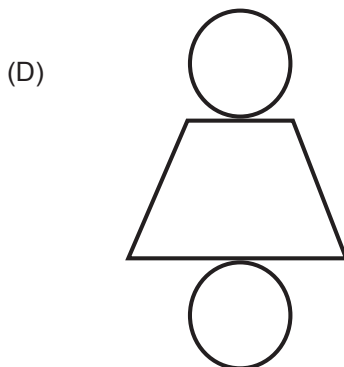
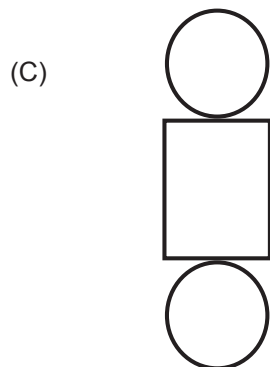
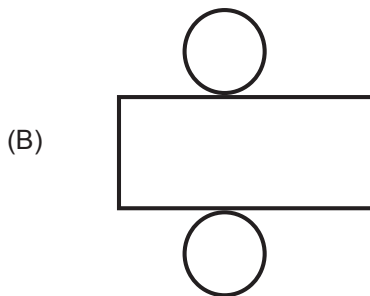
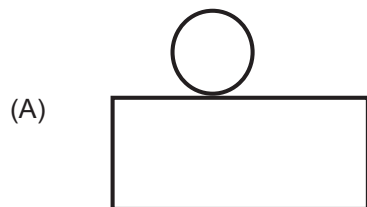
- (A) obtuso.
- (B) agudo.
- (C) raso.
- (D) reto.

QUESTÃO 25

Joana teve que apresentar uma planificação da figura tridimensional representada na imagem:

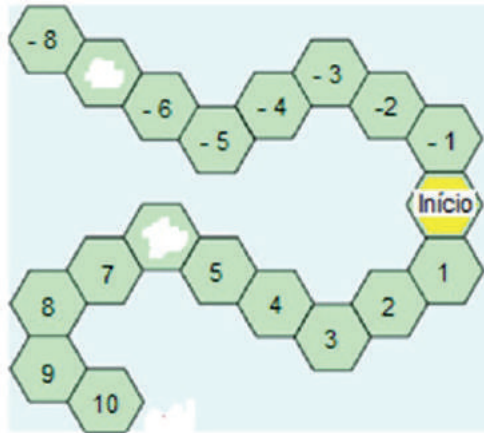


A planificação apresentada por Joana foi



QUESTÃO 26

Observe o tabuleiro de um jogo.

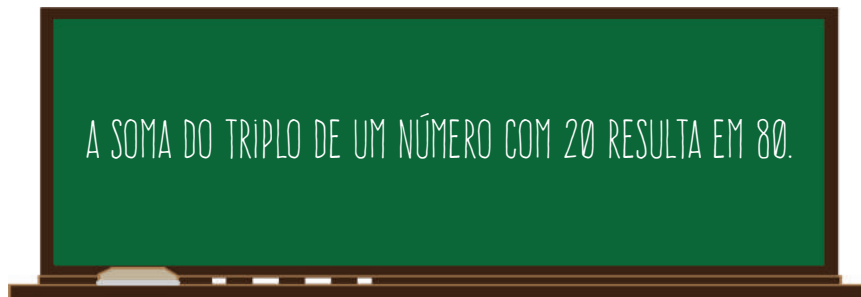


Os números estão colocados em ordem e dois deles se apagaram com o tempo. Esses números são

- (A) - 7 e - 6.
- (B) - 7 e 6.
- (C) 7 e - 6.
- (D) 7 e 6.

QUESTÃO 27

Observe a seguinte frase:

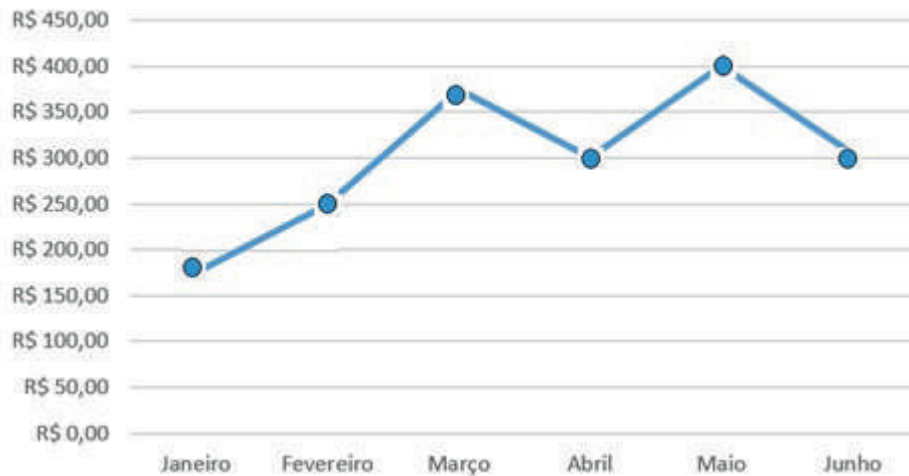


Uma equação que traduz essa frase é

- (A) $\frac{x}{3} + 20 = 80$
- (B) $\frac{x}{3} + 80 = 20$
- (C) $3x + 20 = 80$
- (D) $3x + 80 = 20$

QUESTÃO 28

O gráfico apresenta os gastos mensais de um consumidor com supermercado em um período de seis meses.

Gastos mensais com supermercado

O mês em que houve maior aumento dos gastos, em relação ao mês anterior, foi

- (A) fevereiro.
- (B) março.
- (C) maio.
- (D) junho.

QUESTÃO 29

Um supermercado anunciou a seguinte promoção:

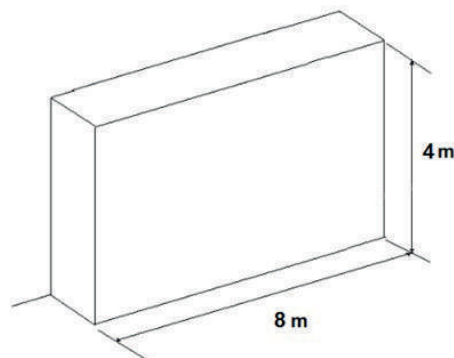


O Sr. José aproveitou a promoção e levou 48 unidades do leite.
O valor total da compra realizada pelo Sr. José foi de

- (A) R\$ 30,00.
- (B) R\$ 60,00.
- (C) R\$ 120,00.
- (D) R\$ 360,00.

QUESTÃO 30

A parede será dividida em duas partes de mesma área, para dividir uma sala em dois ambientes. Cada parte será pintada de uma cor.



Após essa divisão, qual será a medida da área de cada parte da parede?

- (A) 6 m².
- (B) 8 m².
- (C) 12 m².
- (D) 16 m².