

Escola: \_\_\_\_\_

Nome: \_\_\_\_\_

Turma: \_\_\_\_\_ Número: \_\_\_\_\_

Professor: \_\_\_\_\_ Data: \_\_\_\_\_



<http://cultura.estadao.com.br/quadrinhos>. Acesso em: 25 jul. 2017.

### Questão 1

No último quadrinho, a frase “Alguém vai pagar caro por isso!!” indica que Calvin está bravo por

- (A) ter que faltar à aula já que está doente.
- (B) ser acordado por sua mãe.
- (C) estar doente no período de férias.
- (D) querer ficar na cama já que está doente.

## O MAIOR SUGADOR DE SANGUE

Não, o maior sugador de sangue não é um morcego-vampiro. Quando esse morcego encontra grandes mamíferos – especialmente vacas, porcos e cavalos – corta com os dentes a pele do animal e depois bebe o sangue. Por não ser uma criatura de grande porte, ele só consegue consumir algumas colheres de sopa de sangue por noite.

A maior sanguessuga do mundo mede aproximadamente 46 cm e de fato suga o sangue; quando está faminta é capaz de sugar uma quantidade quatro vezes maior que seu peso antes de se saciar. Ela também se alimenta de grandes mamíferos e os ataca quando entram na água.

HOLLAND, Simon. Répteis. Barueri: Girassol, 2007. (adaptado)

### Questão 2

A sanguessuga é conhecida como a maior sugadora de sangue por

- (A) cortar com os dentes a pele do animal.
- (B) consumir algumas colheres de sopa de sangue por noite.
- (C) sugar uma quantidade de sangue quatro vezes maior que seu peso.
- (D) atacar os animais quando entram na água.



<http://cultura.estadao.com.br/quadrinhos>. Acesso em: 26 jul. 2017.

### Questão 3

Na tira, a palavra “deslocados” significa:

- (A) impróprios.
- (B) rejeitados.
- (C) apropriados.
- (D) adaptados.

## A LENDA DO PIRARUCU

O Pirarucu era um índio guerreiro muito valente, vaidoso, injusto e gostava de praticar a maldade. Foi então que o Deus Tupã resolveu castigá-lo e pediu a Deusa Luruauaçú que fizesse cair uma grande tempestade e assim aconteceu. Uma forte chuva caiu do céu sobre a floresta de Xandoré, o forte guerreiro tentou fugir, mas não conseguiu. Vencido pela força do vento caiu ao chão e um raio partiu uma árvore muito grande que caiu sobre sua cabeça, achatando-lhe totalmente. O índio teve seu corpo desfalecido, carregado facilmente pela enxurrada para as profundezas do rio Tocantins. Mas o Deus Tupã ainda não estava satisfeito e resolveu transformá-lo num peixe avermelhado de grandes escamas e cabeça chata e é este peixe Pirarucu que habita os rios da Amazônia.

<http://www.sohistoria.com.br/lendasemitos/pirarucu/>. Acesso em: 09 ago. 2017.(adaptado)

### Questão 4

O fato narrado que dá início à lenda do Pirarucu foi o desejo de

- (A) a Deusa Luruauaçú fazer cair uma grande tempestade na floresta.
- (B) o Deus Tupã castigar o índio guerreiro pelas maldades cometidas.
- (C) o índio tentar fugir da forte chuva que caía sobre a floresta Xandoré.
- (D) o Deus Tupã resolver transformar o índio num peixe de cabeça chata.

Como é a sala de aula da sua escola? Tem mesas, cadeiras, muitos alunos? No mundo, nem todas são assim. As escolas são diferentes dependendo do país.

Em uma escola nas Filipinas, por exemplo, os alunos são obrigados a ficar no corredor, enquanto o novo prédio não fica pronto. No Brasil, no Amazonas, crianças da zona rural estudam em um barco. Tem também uma escola para índios na mesma região. Já no Afeganistão, crianças estudam ao ar livre e ficam sentadas no chão. E nem todas as salas de aula são só para crianças. Alguns adultos não tiveram a chance de estudar quando eram pequenos e voltaram para a escola, como acontece em Santiago no Chile.

<http://www1.folha.uol.com.br/folhinha/2015/10/1689164-veja-como-sao-as-salas-de-aula-em-20-paises-diferentes-do-mundo.shtml>. Acesso em: 10 ago. 2017.

### Questão 5

Qual é o assunto principal desse texto?

- (A) As salas de aula.
- (B) Os mobiliários escolares.
- (C) Os estudantes adultos.
- (D) As crianças da zona rural.

Foi declarada guerra aos quadrúpedes. Todos aqueles que têm asas e sabem voar devem se unir na luta contra os bichos que andam pelo chão.

O morcego ainda estava se refazendo do susto, quando uma hiena passou correndo e uivando aos quatro ventos:

- Atenção, atenção! Foi declarada guerra às aves! Todos os bichos de quatro patas devem se apresentar ao exército dos animais terrestres.

- E agora? – perguntou a si mesmo o aparvalhado morcego. – Eu não sou uma coisa nem outra.

BARBOSA, Rogério Andrade. Histórias Africanas para contar e recontar. São Paulo: Editora do Brasil, 2010.

### Questão 6

No diálogo entre o morcego e a hiena, o ponto de interrogação indica uma

- (A) dúvida.
- (B) indignação.
- (C) ordem.
- (D) negação.



GONSALES, Fernando. Níquel Náusea. Disponível em: <http://www2.uol.com.br/niquel/>. Acesso em: 14 ago. 2017.

### Questão 7

O efeito de humor da tira está no fato de a senhora

- (A) lavar os pés com leite.
- (B) acreditar que leite é ótimo para a pele.
- (C) reaproveitar o leite para alimentar o gato.
- (D) achar um desperdício o uso do leite no corpo.

---

Parece uma grande bagunça, mas a região da Rua 25 de março tem lá a sua organização. Siga o nosso guia de ruas e não se perca:

#### **1.LADEIRA PORTO GERAL**

Especialidade: bijuterias, armarinhos e fantasias para festas.

#### **2.RUA DA CANTAREIRA**

Especialidade: embalagens (caixas, sacolas e sacos personalizados).

#### **3.RUA BARÃO DE DUPRAT**

Especialidade: presentes diversos, brinquedos e itens de decoração.

#### **4.RUA 25 DE MARÇO**

Especialidade: a partir do nº 442 há várias lojas de tecidos, cortinas e itens para a casa. Em seguida surgem galerias com artesanato, eletrônicos, roupas etc.

HIRATA. Giselle. Disponível em: <http://www1.folha.uol.com.br/especial/2017/descubra-sao-paulo/2017/04/1873781-25-de-marco-saiba-o-que-encontrar-no-centro-de-compras-mais-movimentado-da-cidade.shtml>. Acesso em: 14 ago. 2017.

#### **Questão 8**

De acordo com o texto, as lojas de brinquedos são encontradas na

- (A) Ladeira Porto Geral.
- (B) Rua da Cantareira.
- (C) Rua Barão de Duprat.
- (D) Rua 25 de março.

## QUEIMADAS: ATENÇÃO ESPECIAL

A floresta tem uma biodiversidade muito valiosa. É uma riqueza natural importante para a vida hoje e no futuro, assim como para estudos científicos. O pior uso que podemos dar à floresta é queimá-la. As queimadas que destroem a Floresta Amazônica são grandes fontes de gases de efeito estufa para a atmosfera. É muito importante que o Brasil se esforce para **preservá-la** e evite queimar o que resta dela.

Ciência Hoje das crianças. 2º edição. Ano 20, nº 183, setembro de 2007.

### Questão 9

Na última frase, a palavra **preservá-la** se refere à

- (A) atmosfera.
- (B) Floresta Amazônica.
- (C) biodiversidade.
- (D) riqueza natural.



<http://focosaudeonline.com/>. Acesso em: 14 ago. 2017.

### Questão 10

No anúncio, o termo "Siga-me" tem sentido de

- (A) um pedido.
- (B) uma ordem.
- (C) um conselho.
- (D) uma opinião.



**Questão 11**

O número da casa é

- (A) três mil e vinte e quatro.
- (B) trinta e dois mil e quatro.
- (C) trinta e dois mil e quarenta.
- (D) três mil, duzentos e quatro.

**Questão 12**

Ao abrir o supermercado pela manhã, o gerente verificou no programa do computador que havia 428 pacotes de bolacha. No decorrer do dia foram vendidos 121 pacotes. Quantos pacotes de bolacha havia no final do dia?

- (A) 297
- (B) 307
- (C) 497
- (D) 549

Os números estão sendo marcados na reta, em intervalos de mesmo tamanho. A letra P representa um número.

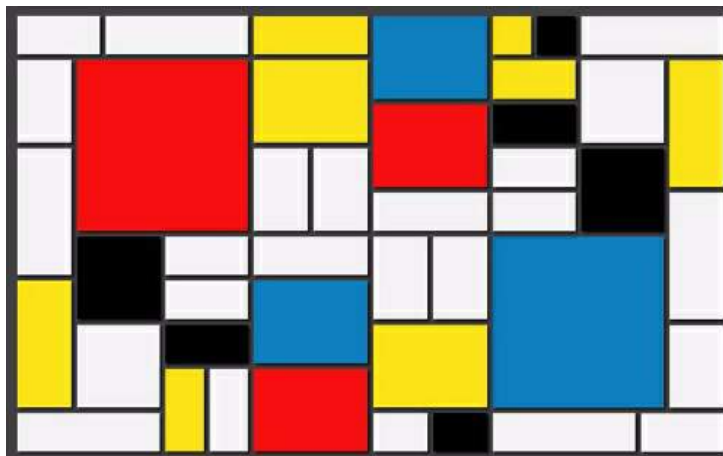


**Questão 13**

Esse número é

- (A) 3 440.
- (B) 3 442.
- (C) 3 444.
- (D) 3 449.

As obras do artista Piet Mondrian se destacam pela composição de figuras geométricas.



Piet Mondrian – Composição com amarelo, azul e vermelho (1937). Disponível em: [widewalls.ch/formalism-in-art/](http://widewalls.ch/formalism-in-art/). Acesso em: 06 set. 2017.

**Questão 14**

A figura geométrica mais utilizada na composição dessa obra foi o

- (A) círculo.
- (B) triângulo.
- (C) quadrado.
- (D) retângulo.



---

**Questão 15**

Um motorista viajou por 72 horas. O número de dias que durou a viagem foi

- (A) 3.
  - (B) 6.
  - (C) 24.
  - (D) 72.
- 

**Questão 16**

O resultado de  $2\,343 \times 268$  é

- (A) 2 611.
  - (B) 37 488.
  - (C) 613 504.
  - (D) 627 924.
-

A Linha Amarela do Metrô de São Paulo (Via Quatro) está apresentando, aos usuários, um gráfico sobre a lotação nos 'vagões' do trem que está chegando à estação. Assim, os usuários podem procurar o 'vagão' mais vazio. As setas que aparecem na imagem indicam o sentido de percurso do trem. Assim, o primeiro 'vagão' é o de portas 01 a 04; o segundo é o de portas 05 a 08, assim por diante.



### Questão 17

Os dois 'vagões' mais vazios são os

- (A) 1º e 4º.
- (B) 2º e 6º.
- (C) 3º e 5º.
- (D) 4º e 5º.

A obra 'O jogo', da artista brasileira Niobe Xandó, fez parte da exposição Flores Fantásticas e Máscaras, que retratou a influência africana e aborígene. Essa obra é composta por 15 quadrinhos ilustrados.



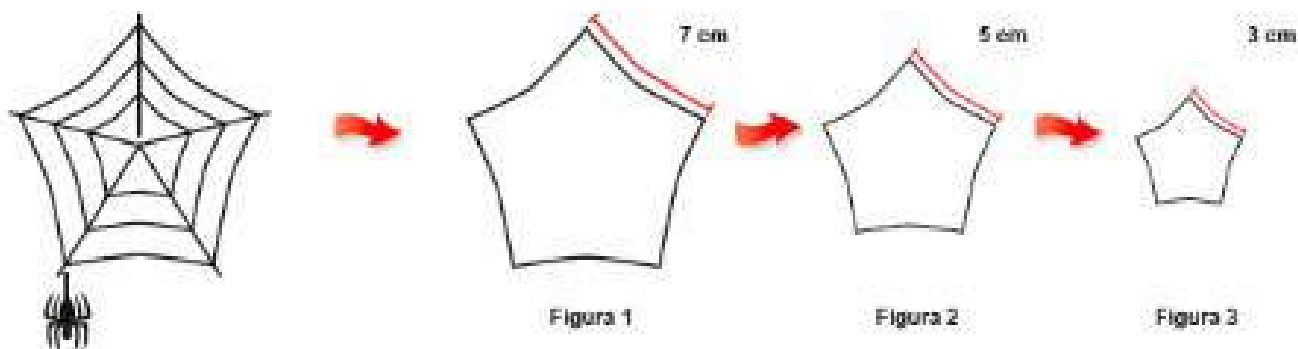
Niobe Xandó. O jogo. 1968. Óleo sobre tela, 95 x 115 cm. Coleção de Torquato Pessoa. Disponível em: Antônio Carlos Abdalla (Curador). Flores Fantásticas e Máscaras: Niobe Xandó. Bolsa de Mercadorias & Futuros. Brasil Espaço Cultural.

**Questão 18**

Se a obra tivesse 56 quadrinhos, distribuídos em 8 fileiras, o número de quadrinhos em cada fileira seria

- (A) 7.
- (B) 8.
- (C) 64.
- (D) 448.

A teia da aranha tem 3 figuras de tamanhos diferentes, sendo que cada uma delas tem 5 lados de mesma medida, conforme mostrado na ilustração.




Disponível em: [pt.aliexpress.com/price/spider-web-stickers\\_price.html](http://pt.aliexpress.com/price/spider-web-stickers_price.html). Acesso em: 28 ago. 2017.

### Questão 19

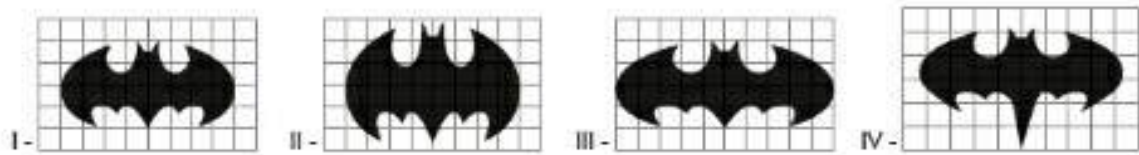
O comprimento do fio da teia, utilizado para tecer as 3 figuras, é, em centímetros:

- (A) 15.
- (B) 45.
- (C) 75.
- (D) 105.

O professor pediu aos alunos que apresentassem uma redução do símbolo do homem morcego.



Foram apresentados os seguintes resultados:



Disponível em: [megacurioso.com.br/quadrinhos/34257-a-evolucao-do-simbolo-do-batman-em-30-designs.htm](http://megacurioso.com.br/quadrinhos/34257-a-evolucao-do-simbolo-do-batman-em-30-designs.htm). Acesso em: 02 set. 2017.

**Questão 20**

A imagem que representa a redução solicitada é a indicada em

- (A) I.
- (B) II.
- (C) III.
- (D) IV.

Os bens culturais de natureza material podem ser imóveis como as cidades históricas, sítios arqueológicos e paisagísticos e bens individuais; ou móveis, como coleções arqueológicas, acervos museológicos, documentais, bibliográficos, fotográficos e cinematográficos.



Disponível em: <http://portal.iphan.gov.br/pagina/detalhes/276>. Acesso em: 10 ago. 2017. (adaptado).

### Questão 21

Dentre os bens culturais apresentados nas imagens, aquele que é classificado como material móvel está indicado pelo número

- (A) 1.
- (B) 2.
- (C) 3.
- (D) 4.



Disponível em: <http://agenciabrasil.ebc.com.br/geral/noticia/2017-01/amazonia-perde-7989-km2-maio-desde-2008>. Acesso em: 13 ago. 2017.

**Questão 22**

Qual ação do homem sobre a natureza está representada na imagem?

- (A) Criação pecuária.
- (B) Cultivo de hortaliças.
- (C) Extrativismo mineral.
- (D) Desmatamento de florestas.

## NA ZONA NORTE, SERRA DA CANTAREIRA TEM ATRAÇÕES DE ECOTURISMO.

Na zona norte de São Paulo, o Parque Estadual da Cantareira conta com quatro núcleos: Engordador, Cabuçu, Águas Claras e Pedra Grande. Neles, é possível fazer trilhas e apreciar fauna e flora nativas e cachoeiras.

Disponível em: <http://sao-paulo.estadao.com.br/noticias/geral,a-vida-dentro-da-cratera-moldada-pelo-meteoro-imp-755839>. Acesso em: 07 ago. 2017. (adaptado).



Disponível em: <http://www.cidadesesaopaulo.com/sp/geografia>. Acesso em: 07 ago. 2017. (adaptado).

### Questão 23

Uma pessoa que sai da Praça da Sé e vai para o parque descrito no texto, deve seguir em direção à região indicada pelo número:

- (A) 1.
- (B) 2.
- (C) 3.
- (D) 4.





Jean-Baptiste DEBRET. Carvão 1822. IN: MAYA, Castro (col.). O Rio de Janeiro de Debret.

**Questão 24**

Os animais que aparecem na imagem estão sendo usados:

- (A) Em atividade de lazer.
- (B) Em competição esportiva.
- (C) Na locomoção de pessoas.
- (D) No transporte de cargas.

A Festa do Círio de Nossa Senhora de Nazaré, em Belém do Pará, é uma celebração constituída por vários rituais, cujo auge ocorre na procissão do Círio, no segundo domingo de outubro.



**Basílica de Nossa  
Senhora de Nazaré**



**Círio de Nossa  
Senhora de Nazaré**

Disponível em: <http://portal.iphan.gov.br/pagina/detalhes/228/>. Acesso em: 13 ago. 2017.

### **Questão 25**

A manifestação cultural que aparece na imagem e está descrita no texto é um exemplo de:

- (A) Arte elitizada.
- (B) Costume indígena.
- (C) Tradição religiosa.
- (D) Apresentação teatral.

Os alimentos, quanto à sua origem, são classificados em: *in natura* e industrializados.



Disponível em: <http://www.dietaligth.com.br/alimentos-naturais-x-alimentos-industrializados/>. Acesso em: 11 ago. 2017.

**Questão 26**

São exemplos de alimentos industrializados

- (A) arroz e frutas.
- (B) chás e verduras.
- (C) legumes e nozes.
- (D) salsicha e biscoito.

Deixa seus músculos bem fortes e te ajuda a crescer e a construir o seu corpo. Você o encontra em alimentos como carne, ovos, feijão, leite entre outros.



Disponível em: <http://www.saudedica.com.br/>. Acesso: em 14 ago. 2017.

**Questão 27**

O texto se refere ao nutriente denominado

- (A) carboidrato.
- (B) vitamina.
- (C) proteína.
- (D) lipídio.

Segundo a Organização Mundial de Saúde (OMS), doença significa ausência de saúde. Elas estão sempre associadas a sintomas específicos. No quadro estão apresentadas algumas doenças e seus sintomas.

| DOENÇA                    | FEBRE AMARELA    | ZIKA                  | DENGUE              | CHIKUNGUNYA              |
|---------------------------|------------------|-----------------------|---------------------|--------------------------|
| <b>SINTOMA</b>            |                  |                       |                     |                          |
| FEBRE                     | Sempre presente  | Presente              | Sempre presente     | Sempre presente          |
| DORES DE CABEÇA           | Sempre presente  | Sempre presente       | Sempre presente     | Sempre presente          |
| DORES NAS ARTICULAÇÕES    | Presente         | Presentes             | Sempre presente     | Sempre presentes         |
| MANCHAS VERMELHAS NA PELE | Ausente          | Sempre presente       | Presente            | Sempre presente          |
| NÁUSEAS                   | Presente         | Ausente               | Sempre presente     | Sempre presente          |
| OLHOS AMARELOS            | Sempre presente  | Ausente               | Ausente             | Ausente                  |
| OUTROS SINTOMAS           | Falta de apetite | Vermelhidão nos olhos | Dor atrás dos olhos | Inchaço nas articulações |

Disponível em: [http://rededor.com.br/releases\\_detail.aspx?id=4285](http://rededor.com.br/releases_detail.aspx?id=4285). Acesso em: 06 set. 2017. (adaptado).

### Questão 28

O sintoma comum a todas as doenças apresentadas no quadro são

- (A) manchas vermelhas na pele.
- (B) dores de cabeça.
- (C) olhos amarelos.
- (D) náuseas.

Para termos saúde precisamos nos proteger de doenças e uma das formas de proteção mais importantes consiste em estimular o organismo para se defender contra os agentes que provocam doenças.

Disponível em: <http://www.123esaude.com.br/wp-content/uploads/2016/05/Caderno-Divertimentos.pdf>. Acesso em: 16 ago. 2017(adaptado).

### Questão 29

A forma de proteção citada no texto é a

- (A) internação.
- (B) vacinação.
- (C) medicação.
- (D) alimentação.

No Brasil, menos da metade dos municípios têm coleta de esgotos... Somente uma parte da água consumida no Brasil é tratada adequadamente... Muitos de nossos rios, lagos, baías e mares recebem água contaminada sem tratamento prévio.



DIAS, Sonia. Água, Meio Ambiente e Vida- São Paulo: Global. 2004. (adaptado). || Disponível em: <http://www.webventure.com.br/h/noticias/qualidade-da-agua-e-ruim-ou-pessima-em-40-dos-rios-brasileiros>. Acesso em: 16 ago. 2017.

### **Questão 30**

Tanto nas zonas rurais quanto nas zonas urbanas, o problema da distribuição de água potável e da coleta de esgoto estão associados à

- (A) falta de saneamento básico.
- (B) uso exagerado de pesticida.
- (C) densidade demográfica.
- (D) falta de chuva.