

LÍNGUA PORTUGUESA

QUESTÃO 1



Disponível em: <http://rothbardbrasil.com/economia-em-um-unico-artigo-eu-o-lapis/>. Acesso em: 26 set. 2017.

A imagem é de um

- (A) lápis.
- (B) apontador.
- (C) livro.
- (D) estojo.

QUESTÃO 2

Observe a imagem:



Disponível em: <https://www.farejadordecaes.com.br/2016/07/chega-de-xixi-e-coco-no-lugar-errado/>. Acesso em 26 set. 2017.

O animal que está na fotografia é um

- (A) cachorro.
- (B) camelo.
- (C) cavalo.
- (D) cabrito.

QUESTÃO 3

Observe a imagem:



Disponível em: <https://www.bagaggio.com.br/mochilas-1706/c>. Acesso em: 26 set. 2017.

O nome desse objeto é uma

- (A) sacola.
- (B) bolsa.
- (C) carteira.
- (D) mochila.

QUESTÃO 4

Observe a imagem:




O que as crianças vão fazer?

- (A) ler na sala de leitura.
- (B) brincar no parque.
- (C) correr no pátio.
- (D) jogar bola.

QUESTÃO 5

Leia a capa do livro



Disponível em: <http://meninosdetodascores2012.blogspot.com.br/>. Acesso em: 28 ago. 2017.

O título do livro é

- (A) Everest.
- (B) Marisa López Soria.
- (C) katarzyna Rogowicz.
- (D) As cores de Mateus.

QUESTÃO 6




Disponível em: <http://www.encartale.com.br/produtos>. Acesso em: 26 set. 2017.

Na placa, pede-se para

- (A) plantar grama.
- (B) pisar na grama.
- (C) cortar a grama.
- (D) não pisar na grama.

QUESTÃO 7



Disponível em: <https://www.youtube.com/watch?v=UleHGh7yOX8>. Acesso em: 05 set. 2017.

Disponível em: <https://www.youtube.com/watch?v=Upsvi5Mkdc>. Acesso em: 26 set. 2017.

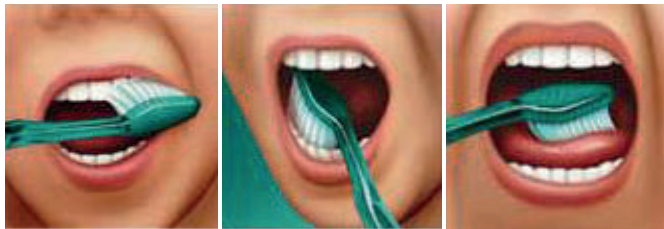
Disponível em: https://bebeatual.com/historias-patinho-feio_105. Acesso em: 26 set. 2017.

Que história é essa?

- (A) O patinho feio.
- (B) O ganso de ouro.
- (C) A raposa e os gansos.
- (D) A casa na floresta.

QUESTÃO 8

Qual é a maneira certa de escovar?




- Escove as superfícies voltadas para a bochecha dos dentes superiores e, depois, dos inferiores.
- Escove as superfícies internas dos dentes superiores e, depois, dos inferiores.
- Em seguida, escove as superfícies de mastigação.
- Para ter hálito puro, escove também a língua, local onde muitas bactérias ficam alojadas.

Disponível em: <http://www.colgate.com.br/pt/br/oc/oral-health/>. Acesso em: 26 set. 2017.

Esse texto serve para

- (A) indicar o uso da pasta de dente.
- (B) ensinar como escovar os dentes.
- (C) mostrar a marca da escova de dente.
- (D) aconselhar a limpeza diária dos dentes.

QUESTÃO 9**AKITA INU****FICHA TÉCNICA**

	Tamanho: de 61 cm a 67 cm	Temperamento: calmo, fiel, dócil e receptivo
	Peso: de 49 kg a 58 kg	Pelagem: pelo externo duro e reto, subpelo macio e denso
	Cores: vermelho-fulvo, tigrado e branco	

Revista Meu Pet. Edição 50. Editora Escala, p.18.

Quanto pesa um cachorro Akita?

- (A) de 49 kg a 58 kg.
- (B) de 61 cm a 67 cm.
- (C) 49 kg a 61cm.
- (D) 58 kg a 67 cm.

QUESTÃO 10Disponível em: <http://interagiraqueagora.blogspot.com.br/2012/08/telas-de-ivan-cruz-brincadeiras-de.html>. Acesso em: 26 set. 2017.**COMO BRINCAR**

Para jogar, fique atrás da linha do início do traçado – do lado oposto à palavra ‘Céu’ – e atire o marcador na casinha que não poderá ser pisada, começando pelo número 1. Atravesse o resto do circuito com pulos alternados nos dois pés e em um pé só. Ao chegar no ‘Céu’, faça o caminho de volta do circuito, pegue o marcador - sem pular na casa onde ele está – e volte para trás do traçado. Depois jogue o marcador na próxima casinha e assim sucessivamente. Se errar, será a vez do próximo jogador. Vence quem completar todo diagrama primeiro.

Disponível em: http://delas.ig.com.br/filhos/brincadeiras/amarelinha/4e3b1e4a3cb31768630000_01.html. Acesso em: 26 set. 2017.


O texto e a imagem tratam da brincadeira

- (A) amarelinha.
- (B) queimada.
- (C) barra manteiga.
- (D) cabo de guerra.

MATEMÁTICA

QUESTÃO 11

As obras do artista Piet Mondrian se destacam pela composição de figuras geométricas.



Piet Mondrian – Composição com amarelo, azul e vermelho (1937). Disponível em: widewalls.ch/formalism-in-art/. Acesso em: 06 set. 2017.

A figura geométrica mais utilizada na composição dessa obra foi o

- (A) círculo.
 - (B) triângulo.
 - (C) quadrado.
 - (D) retângulo.
-


QUESTÃO 12

O tabuleiro de um jogo tem 24 casas no total, distribuídas em 6 fileiras. O número de casas em cada fileira é

- (A) 144.
- (B) 30.
- (C) 18.
- (D) 4.

QUESTÃO 13

Em um jogo de composição de números, os alunos tiram 3 cartas. As cartas fornecem uma decomposição de um número. Os alunos devem descobrir o número que é formado somando os valores que saem nas cartas. Observe as cartas que tiraram:



O número obtido a partir dessa decomposição é

- (A) 432 100 000.
- (B) 421 000 300.
- (C) 21 000 304.
- (D) 21 304.

QUESTÃO 14

Uma indústria, anualmente, contrata vários funcionários. A cada 170 funcionários que ela contrata, metade deles vão para a linha de pesquisa de produtos. Nesse ano, a empresa contratou 510 funcionários.

O número de funcionários que foram para a linha de pesquisa é

- (A) 85.
- (B) 255.
- (C) 340.
- (D) 1020.

QUESTÃO 15

Disponível em: www.maisonsdumonde.com/UK/en/meubles-decoracion.htm?isRedirect=1. Acesso em: 24 ago. 2017.

A vela, mostrada na imagem, tem a forma parecida com a de um objeto geométrico. Esse objeto é

- (A) o cilindro.
- (B) o cone.
- (C) a pirâmide.
- (D) a esfera.

QUESTÃO 16

O número da casa da menina é

- (A) 3 264.
- (B) 3 200 604.
- (C) 3 200 064.
- (D) 3 000 200 604.

QUESTÃO 17

A Linha Amarela do Metrô de São Paulo (Via Quatro) está apresentando, aos usuários, um gráfico sobre a lotação nos ‘vagões’ do trem que está chegando à estação. Assim, os usuários podem procurar o ‘vagão’ mais vazio. As setas que aparecem na imagem indicam o sentido de percurso do trem. Assim, o primeiro ‘vagão’ é o de portas 01 a 04; o segundo é o de portas 05 a 08, assim por diante.



Disponível em: metrocpm.com.br/viaquatro-inova-com-informacao-sobre-lotacao-dos-trens-da-linha-4/. Acesso em: 16 ago. 2017.

Os dois ‘vagões’ mais vazios são os

- (A) 1º e 4º.
- (B) 2º e 6º.
- (C) 3º e 5º.
- (D) 4º e 5º.

QUESTÃO 18

O resultado de $2\,389 - 432$ é

- (A) 1 957.
- (B) 2 157.
- (C) 2 711.
- (D) 2 821.

QUESTÃO 19

O carrinho de um parque de diversão ficou em manutenção por 10 dias. O número de horas que ele ficou em manutenção foi

- (A) 12.
 - (B) 24.
 - (C) 120.
 - (D) 240.
-

QUESTÃO 20**VIDA NAS ALDEIAS**

As atividades realizadas pelo povo indígena Munduruku começam e terminam cedo. Às 5 horas da manhã as famílias já saem rumo à roça, à caça, à pesca ou à coleta. Por volta das 13 horas as mulheres já estão de volta à aldeia, com mandioca, cará, batata-doce, macaxeira e frutas dos mais variados tipos. [...]

MUNDURUKU, Daniel. *As serpentes que roubaram a noite e outros mitos*. São Paulo: Petrópolis, 2001. (Coleção memórias ancestrais; Povo Munduruku), P 48. (adaptado).

O número de horas que as mulheres Munduruku ficam fora da aldeia é

- (A) 5.
- (B) 8.
- (C) 13.
- (D) 18.

NATUREZA E SOCIEDADE

QUESTÃO 21



Disponível em: <http://g1.globo.com/Noticias/Mundo/0,,MUL1036706-5602,00-RELOGIO+DE+BOLSO+DE+LINCOLN+E+ABERTO+E+REVELA+MISTERIO+DE+ANOS.html>. Acesso em 13 de ago. de 2017.

O objeto que aparece na imagem serve para:

- (A) Indicar as horas.
- (B) Contar os séculos.
- (C) Mostrar a direção.
- (D) Registrar o passado.

QUESTÃO 22



Disponível em: <https://www.royalmaquinas.com.br/blog/confinamento-ou-pasto-qual-a-melhor-opcao-para-o-gado-leiteiro/>. Acesso em: 07 ago. 2017.

A imagem está relacionada a uma atividade econômica denominada

- (A) pecuária.
- (B) mineração.
- (C) agricultura.
- (D) extrativismo.

QUESTÃO 23



O estado em que vivemos faz parte da Região

- (A) Sul.
- (B) Norte.
- (C) Sudeste.
- (D) Nordeste.

QUESTÃO 24

NA ZONA NORTE, SERRA DA CANTAREIRA TEM ATRAÇÕES DE ECOTURISMO.

Na zona norte de São Paulo, o Parque Estadual da Cantareira conta com quatro núcleos: Engordador, Cabuçu, Águas Claras e Pedra Grande. Neles, é possível fazer trilhas e apreciar fauna e flora nativas e cachoeiras.

Disponível em: <http://sao-paulo.estadao.com.br/noticias/geral,a-vida-dentro-da-cratera-moldada-pelo-meteorito-imp-,755839>. Acesso em: 07 ago. 2017. (adaptado).



Disponível em: <http://www.cidadedesapaulo.com/sp/geografia>. Acesso em: 07 ago. 2017. (adaptado).

Uma pessoa que sai da Praça da Sé e vai para o parque descrito no texto, deve seguir em direção à região indicada pelo número:

- (A) 1.
- (B) 2.
- (C) 3.
- (D) 4.

QUESTÃO 25

Jean-Baptiste DEBRET. Carvão 1822. IN: MAYA, Castro (col.). O Rio de Janeiro de Debret.

Os animais que aparecem na imagem estão sendo usados:

- (A) Em atividade de lazer.
- (B) Em competição esportiva.
- (C) Na locomoção de pessoas.
- (D) No transporte de cargas.

QUESTÃO 26

Os alimentos, quanto à sua origem, são classificados em: *in natura* e industrializados.

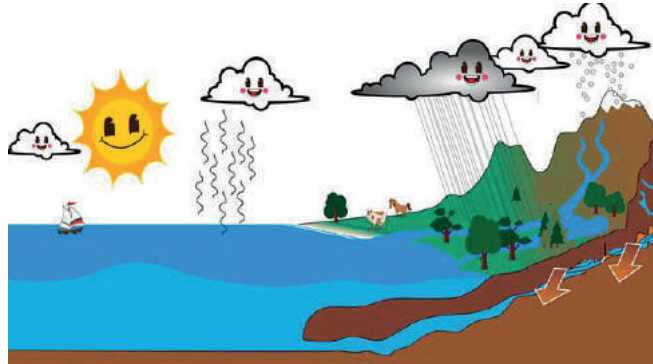
Disponível em: <http://www.dietaligh.com.br/alimentos-naturais-x-alimentos-industrializados/>. Acesso em: 11 ago. 2017.

São exemplos de alimentos industrializados

- (A) arroz e frutas.
- (B) chás e verduras.
- (C) legumes e nozes.
- (D) salsicha e biscoito.

QUESTÃO 27

Quando falamos em água, em geral, pensamos imediatamente na sua forma líquida como rios, mares, chuva. Mas também a neve, o gelo, a chuva de granizo, a nuvem, o vapor d'água são água em forma sólida e gasosa.



RIOS, Eloci Peres. **Água Vida e Energia**. São Paulo: Atual Editora, 2004.

Essas diferentes formas da água ocorrem devido mudanças de

- (A) temperatura do ambiente.
- (B) velocidade do vento.
- (C) quantidade de luz.
- (D) tipo de poluição.

QUESTÃO 28

Deixa seus músculos bem fortes e te ajuda a crescer e a construir o seu corpo. Você o encontra em alimentos como carne, ovos, feijão, leite entre outros.



Disponível em: <http://www.saudedica.com.br/>. Acesso: em 14 ago. 2017.

O texto se refere ao nutriente denominando

- (A) carboidrato.
- (B) vitamina.
- (C) proteína.
- (D) lipídio.

QUESTÃO 29



1



2



3



4

Disponível em: <http://www.explicatorium.com/cfq-7/materiais-naturais-sinteticos.html>. Acesso em: 16 ago. 2017.

Qual imagem representa um produto natural?

- (A) 1.
- (B) 2.
- (C) 3.
- (D) 4.

QUESTÃO 30

O homem precisa de um aparelho especial para respirar embaixo da água. No entanto, existem outros animais, como o tubarão, que respiram naturalmente nesse ambiente.



Disponível em: <http://www.storytrender.com/2023/fearless-diver-comes-face-face-great-white-shark>. Acesso em: 14 ago. 2017.

Isso acontece porque a respiração deles se dá

- (A) pelas brânquias
- (B) pela traqueia.
- (C) pelos pulmões.
- (D) pela pele