

Escola: _____
Nome: _____
Turma: _____ Número: _____
Professor: _____ Data: _____



Disponível em: <https://www.papelariamatriz.com.br/grampeador-jocar-boss-93017#.wbhwfbkgmdu>. acesso em: 12 set. 2017.

Questão 1

Essa imagem é de um

- (A) guache.
- (B) grampo.
- (C) grafite.
- (D) grampeador.

Leia a lista dos nomes dos alunos escolhidos para contar uma história.

ADELAIDE
ADRIANA
DAVID
ADRIANO
DENISE
PAULO

Questão 2

Os nomes dessa lista, em ordem alfabética, são

- (A) Adelaide, Adriana, Adriano, Paulo, Denise e David.
- (B) Adelaide, Adriana, Adriano, David, Denise e Paulo.
- (C) Adriano, Adriana, Adelaide, David, Denise e Paulo.
- (D) Adriana, Adriano, Adelaide, Denise, Paulo e David.

A maior bola do mundo

é de fogo e se chama sol.

A bola mais conhecida

é a de jogar futebol.

Certa bola colorida

jogar bem eu nunca pude

é de vidro essa bandida

e chama-se bola de gude.

azevedo, ricardo. dezenove poemas desengonçados. são paulo: Ática, 1998.

Questão 3

No poema, as palavras que rimam são

- (A) fogo, sol.
- (B) sol, futebol.
- (C) jogar, bola.
- (D) bola, colorida.



Galvão, Jean. recreio especial tirinhas. são paulo: abril, 2014.

Questão 4

Nesse texto, o menino

- (A) gostou de brincar de casinha.
- (B) chamou a menina para jogar futebol.
- (C) queria jogar futebol com as meninas.
- (D) ficou surpreso com o jogo de futebol das meninas.

Você sabia que...

... o Brasil é o país com maior diversidade de árvores no planeta? Foi o que mostrou um estudo de uma organização internacional sem fins lucrativos, nunca feito antes: nosso território tem 8.715 espécies de árvores – isso representa 14% das 60.065 espécies que existem no mundo. o segundo lugar é da Colômbia (5.776), seguida pela indonésia (5.142). A região norte do Canadá e Gronelândia tem o menor número de espécies, com menos de 1,4 mil.

revista recreio. 895, ano 17. 4 mai. 17.

Questão 5

Qual é o país que tem o segundo maior número de árvores no planeta?

- (A) Brasil.
- (B) Canadá.
- (C) Colômbia.
- (D) Indonésia.

A água está sempre em um vai e vem. Cai a chuva, a água escorre sobre o chão. Entra na terra, ou vai parar no corpo dos seres vivos. A água evapora, o vapor d'água sobe, esfria e vira nuvem, e a chuva volta a cair.

morais, marta bouissou. tanta água. belo horizonte: dimensão, 2011.

Questão 6

No texto, o assunto principal é

- (A) seres vivos.
- (B) ciclo da água.
- (C) formação da chuva.
- (D) formação da nuvem.



Revista Recreio, nº904, ano 17, 06 jul. 2017.

revista recreio. nº904, ano 17. 06 jul. 2017.

Questão 7

Esse texto serve para

- (A) ensinar como escovar os dentes.
- (B) divulgar a marca da escova de dente.
- (C) recomendar a limpeza diária dos dentes.
- (D) solicitar uma mudança de hábito na escovação.

Comida é cultura

Imagine você morrendo de fome. Então, resolve dar uma espiada na cozinha e vê o que está saindo para o almoço: um maravilhoso frango assado com batatas e farofa. Para a sobremesa: pudim de coco. hummm!!! O que você pensa então? Apenas em encher a pança, não é mesmo?

Disponível em: <http://www.canalkids.com.br/portal/barra/clubv.php?U=../alimentacao/index.php3> . acesso em: 24 ago. 2017.

Questão 8

No texto, o ponto de exclamação, na palavra “hummm!!!”, indica

- (A) susto.
- (B) emoção.
- (C) surpresa.
- (D) entusiasmo.

Leia a adivinha

revista recreio. nº 904, ano 17. 06 jul. 2017.

Questão 9

QUE PASSA NA ÁGUA E NÃO SE MOLHA?

- (A) capa de chuva.
- (B) o copo d'água.
- (C) a mangueira.
- (D) a sombra.

A cidade encantada de Jericoacoara

Dizem alguns habitantes de Jericoacoara que, sob o serrote do farol, jaz uma cidade encantada, onde habita uma linda princesa. Perto da praia, quando a maré está baixa, há uma fuma onde só se pode entrar de gatinhas. Essa fuma de fato existe. Só se pode entrar pela boca da caverna, mas não pode percorrê-la, porque, dizem, é fechada por enorme portão de ferro. A princesa está encantada no meio da cidade que existe além do portão. a maravilhosa princesa está transformada numa serpente de escamas de ouro, só tendo a cabeça e os pés de mulher. Diz a lenda que ela só pode ser desencantada com sangue humano.

Vocabulário

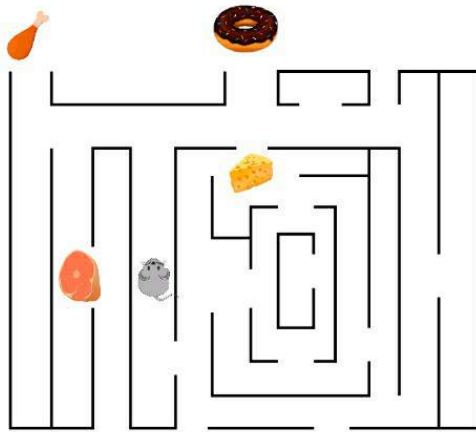
Fuma: gruta, caverna
de gatinhas: engatinhar

casculo, luís da câmara. lendas brasileiras para jovens. são paulo: Global editora, 2006.

Questão 10

Para entrar na cidade encantada é preciso

- (A) entrar pela boca da caverna.
- (B) atravessar o portão de ferro.
- (C) caminhar perto da praia.
- (D) cruzar o meio da cidade.



Questão 11

O rato caminha pelo labirinto e está seguindo em frente. Se ele virar à primeira esquerda e depois à primeira Direita, ele encontrará


- (A) o bife.
- (B) o queijo.
- (C) a coxinha.
- (D) a rosquinha.

Questão 12

Em uma excursão da escola, entraram 34 crianças no primeiro ônibus e 26 no segundo. O número de crianças que o primeiro ônibus tinha a mais que o segundo era

- (A) 60.
- (B) 50.
- (C) 12.
- (D) 8.

Uma semente foi plantada e depois de 516 horas foi feito o 1º registro do seu crescimento. o segundo registro foi feito 564 horas Depois do plantio, assim por diante, obedecendo sempre Um intervalo fixo de tempo. Faltou o número de horas do 3º registro.



Questão 13

O número de horas, que aparecerá no terceiro registro, é

- (A) 1080.
- (B) 612.
- (C) 96.
- (D) 48.

Questão 14

o resultado de $4\ 864 - 2\ 703$ é

- (A) 7 567.
- (B) 6 567.
- (C) 2 161.
- (D) 1 161.

A professora vai marcar no calendário o dia da feira cultural, que será no terceiro sábado do mês.


DOMINGO	SEGUNDA-FEIRA	TERÇA-FEIRA	QUARTA-FEIRA	QUINTA-FEIRA	SEXTA-FEIRA	SÁBADO
					1	2
3	4	5	6	7	8	9
10	11	12	13	14	15	16
17	18	19	20	21	22	23
24	25	26	27	28	29	30

Questão 15

Ela marcará o dia

- (A) 3.
- (B) 9.
- (C) 16.
- (D) 17.

Os alunos fizeram uma pesquisa na turma para saber do que cada um tem mais medo. registraram o resultado em um quadro.



PESQUISA SOBRE O MEDO	
O QUE DÁ MEDO	QUANTOS TÊM MEDO
COBRA	43
ESCURO	29
LADRÃO	32
TROVÃO	38
FANTASMA	41

Questão 16

Os alunos têm mais medo

- (A) De cobra.
- (B) De ladrão.
- (C) De escuro.
- (D) Do trovão.

Um brinquedo foi pago com uma nota de cem reais e foi dado o seguinte troco:



Disponível em: www.bcb.Gov.br/novasnotas/nota-10-reais.html. acesso em: 27 aGo. 2017.

Questão 17

o valor do brinquedo, em reais, é


- (A) 114.
- (B) 100.
- (C) 86.
- (D) 14.

Questão 18

o tabuleiro de um jogo tem 45 casas no total, distribuídas em 9 fileiras. o número de casas em cada fileira é

- (A) 405.
- (B) 54.
- (C) 36.
- (D) 5.

Os quadros de uma exposição estão numerados e serão organizados no corredor da entrada, em ordem decrescente de numeração.



Questão 19

Os números dos quadros, em ordem decrescente, são

- (A) 120, 160, 200, 240, 280, 320.
- (B) 320, 280, 240, 200, 160, 120.
- (C) 320, 200, 120, 160, 280, 240.
- (D) 240, 280, 160, 120, 200, 320.



Disponível em: www.maisonsDUmonDe.com/UK/en/meUbles-Decoration.htm?isreDirect=1. acesso em: 24 aGo. 2017.

Questão 20

A vela, mostrada na imagem, tem a forma parecida com a de um objeto geométrico. Esse objeto é

- (A) O cilindro.
- (B) O cone.
- (C) A pirâmide.
- (D) A esfera.



Disponível em: <http://veJasp.abril.com.br/estabelecimento/capela-De-sao-miGuel-arcAnJo/>. acesso em: 7 aGo. 2017.

Questão 21

Presente na maioria Das cidades brasileiras, o local representando na imagem é caracterizado como:

- (A) loja comercial.
- (B) Posto de Saúde
- (C) Templo religioso.
- (D) Estação Rodoviária



Disponível em: <http://www.mUseUoscarniemeyer.orG.br/exposicoes/exposicoes/realizaDas/2014/plUmria>. acesso em: 7 aGo. 2017.

Questão 22

O objeto apresentado na na imagem pertence à

- (A) Religião Asiática.
- (B) Cultura Indígena.
- (C) Herança Africana.
- (D) Tradição Europeia.



Disponível em: <http://G1.Globo.com/noticias/mUnDo/0,,mUI1036706-5602,00-reloGio+De+bolso+De+lincoln+e+aberto+e+revela+misterio+De+anos.html>. acesso em: 13 aGo. 2017.

Questão 23

o objeto que aparece na imagem serve para:

- (A) Indicar as horas.
- (B) Contar os séculos.
- (C) Mostrar a direção.
- (D) Registrar o passado.



Disponível em: <http://www.prefeitUra.sp.Gov.br/ciDaDe/secretarias/comUnicacao/noticias/?p=105489>. acesso em: 21 aGo. 2017.

Questão 24

o meio de locomoção que aparece na imagem é um transporte

- (A) Aéreo.
- (B) Ferroviário.
- (C) Marítimo.
- (D) Rodoviário.



Disponível em: <https://www.royalmaqUinas.com.br/bloG/confinamento-oU-pasto-qUal-a-melhor-opcao-para-o-GaDo-leiteiro/>. acesso em: 7 aGo. 2017.

Questão 25

a imagem está relacionada a Uma atividade econômica denominada

- (A) Pecuária.
- (B) Mineração.
- (C) Agricultura.
- (D) Extrativismo.

Os recursos naturais são elementos da natureza úteis ao ser humano para a sua sobrevivência, conforto e desenvolvimento de diversas atividades. Eles podem ser divididos em recursos naturais renováveis e não renováveis, conforme possam ou não ser regenerados para sua utilização.

Disponível em: <http://planeta-terra.info/recursos-naturais.html>. acesso em: 09 ago. 2017. (adaptado).

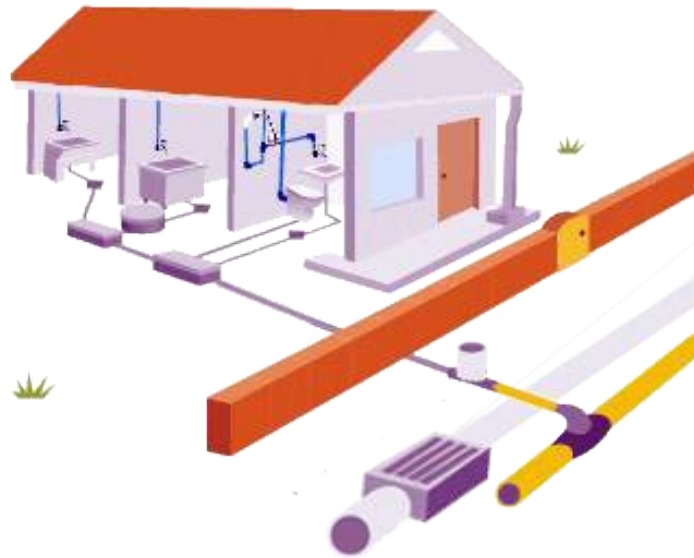
Questão 26

São exemplos de recursos naturais renováveis ou que podem ser renovados:

- (A) Florestas e energia solar.
 - (B) Água e petróleo.
 - (C) Ventos e ferro.
 - (D) Solo e ouro.
-

O esgoto e o lixo fazem parte dos resíduos eliminados em nossa vida diária. eles podem ser domésticos ou não domésticos (industriais). O esgoto industrial é constituído pela água que vem das atividades industriais e comerciais tais como fábricas, centros comerciais, padarias e postos de gasolina.

Disponível em: http://site.sabesp.com.br/site/uploads/file/folhetos/2016/esgoto_lixo.pdf. acesso em: 11 aGo.2017. (adaptado).



Disponível em: <http://www.daebauru.com.br/2014/esgoto/esgoto.php?secao=gordura&pagina=16>. acesso em: 11 ago. 2017

Questão 27

Uma das fontes de esgoto doméstico é a

- (A) pulverização de agrotóxico no campo.
- (B) troca de óleo em oficinas mecânicas.
- (C) precipitação da água da chuva.
- (D) lavagem de roupa em casa.

Quando falamos em água, em geral, pensamos imediatamente na sua forma líquida como rios, mares, chuva. Mas também a neve, o gelo, a chuva de granizo, a nuvem e o vapor d'água são água em forma sólida e gasosa.

rios, eloci peres. água vida e energia. são paulo: atual editora, 2004.

Questão 28

Essas diferentes formas da água ocorrem devido a mudanças de

- (A) temperatura do ambiente.
 - (B) velocidade do vento.
 - (C) quantidade de luz.
 - (D) tipo de poluição.
-

As fases da lua se devem à iluminação que a lua recebe do sol e como ela é refletida para a terra. Como a lua se desloca em torno da terra e a terra ao redor do sol, a fração iluminada que vemos da lua muda constantemente.

As fases da lua são:

Lua nova – quando a lua não é visível da terra.

Lua quarto crescente – quando vemos somente metade da face iluminada, ou seja, um quarto da lua.

Lua cheia – quando a face visível fica toda iluminada durante toda a noite.

Lua quarto minguante – quando o lado que vemos iluminado é o que estava escuro na fase crescente.

Disponível em: <http://www.planetariodorio.com.br/observacao-do-ceu/>. Acesso em: 11 ago. 2017. (adaptado).



Disponível em: <https://www.altoastral.com.br/simpatias-das-fases-da-lua/>. acesso em: 11 ago. 2017.

Questão 29

A fase ilustrada na imagem é a lua

- (A) nova.
- (B) quarto crescente.
- (C) cheia.
- (D) quarto minguante.

O homem precisa de um aparelho especial para respirar embaixo da água. No entanto, existem outros animais, como o tubarão, que respiram naturalmente nesse ambiente.



Disponível em: <http://www.storytrender.com/2023/fearless-diver-comes-face-face-great-white-shark>. acesso em: 14 ago. 2017.

Questão 30

Isso acontece porque a respiração deles se dá

- (A) pelas brânquias.
- (B) pela traqueia.
- (C) pelos pulmões.
- (D) pela pele.