

LÍNGUA PORTUGUESA

QUESTÃO 1



DISPONÍVEL EM: [HTTP://ROTHBARDBRASIL.COM/ECONOMIA-EM-UM-UNICO-ARTIGO-EU-O-LAPIS/](http://rothbardbrasil.com/economia-em-um-unico-artigo-eu-o-lapis/). ACESSO EM: 26 SET. 2017.

A IMAGEM É DE UM

- (A) LÁPIS.
 - (B) APONTADOR.
 - (C) LIVRO.
 - (D) ESTOJO.
-

QUESTÃO 2

OBERVE A IMAGEM:



DISPONÍVEL EM: [HTTPS://WWW.FAREJADORDECAES.COM.BR/2016/07/CHEGA-DE-XIXI-E-COCO-NO-LUGAR-ERRADO/](https://www.farejadordecaes.com.br/2016/07/cheга-de-xixi-e-coco-no-lugar-errado/). ACESSO EM 26 SET. 2017.

O ANIMAL QUE ESTÁ NA FOTOGRAFIA É UM

- (A) CACHORRO.
- (B) CAMELO.
- (C) CAVALO.
- (D) CABRITO.

QUESTÃO 3

OBSERVE A IMAGEM:



DISPONÍVEL EM: [HTTPS://WWW.BAGAGGIO.COM.BR/MOCHILAS-1706/C](https://www.bagaggio.com.br/mochilas-1706/c). ACESSO EM: 26 SET. 2017.

NOME DESSE OBJETO É UMA

- (A) SACOLA.
- (B) BOLSA.
- (C) CARTEIRA.
- (D) MOCHILA.

QUESTÃO 4

OBSERVE A IMAGEM:




QUE AS CRIANÇAS VÃO FAZER?

- (A) LER NA SALA DE LEITURA.
- (B) BRINCAR NO PARQUE.
- (C) CORRER NO PÁTIO.
- (D) JOGAR BOLA.

QUESTÃO 5

LEIA A CAPA DO LIVRO



DISPONÍVEL EM: [HTTP://MENINOSDETODASCORRES2012.BLOGSPOT.COM.BR/](http://meninosdetodascorres2012.blogspot.com.br/). ACESSO EM: 28 AGO. 2017.

O TÍTULO DO LIVRO É

- (A) EVEREST.
- (B) MARISA LÓPEZ SORIA.
- (C) KATARZYNA ROGOWICZ.
- (D) AS CORES DE MATEUS.

QUESTÃO 6



DISPONÍVEL EM: [HTTP://WWW.ENCARTALE.COM.BR/PRODUTOS](http://www.ENCARTALE.COM.BR/PRODUTOS). ACESSO EM: 26 SET. 2017.

NA PLACA, PEDE-SE PARA

- (A) PLANTAR GRAMA.
- (B) PISAR NA GRAMA.
- (C) CORTAR A GRAMA.
- (D) NÃO PISAR NA GRAMA.

QUESTÃO 7



DISPONÍVEL EM: [HTTPS://WWW.YOUTUBE.COM/WATCH?V=UleHGh7yOX8](https://www.youtube.com/watch?v=UleHGh7yOX8). ACESSO EM: 05 SET. 2017.

DISPONÍVEL EM: [HTTPS://WWW.YOUTUBE.COM/WATCH?V=Upsvi5Mlkdc](https://www.youtube.com/watch?v=Upsvi5Mlkdc). ACESSO EM: 26 SET. 2017.

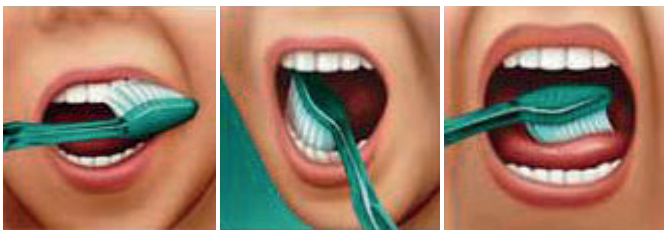
DISPONÍVEL EM: [HTTPS://BEBEATUAL.COM/HISTORIAS-PATINHO-FEIO_105](https://bebeatual.com/historias-patinho-feio_105). ACESSO EM: 26 SET. 2017.

QUE HISTÓRIA É ESSA?

- (A) O PATINHO FEIO.
- (B) O GANSO DE OURO.
- (C) A RAPOSA E OS GANSOS.
- (D) A CASA NA FLORESTA.

QUESTÃO 8

QUAL É A MANEIRA CERTA DE ESCOVAR?




- ESCOVE AS SUPERFÍCIES VOLTADAS PARA A BOCHECHA DOS DENTES SUPERIORES E, DEPOIS, DOS INFERIORES.
- ESCOVE AS SUPERFÍCIES INTERNAS DOS DENTES SUPERIORES E, DEPOIS, DOS INFERIORES.
- EM SEGUIDA, ESCOVE AS SUPERFÍCIES DE MASTIGAÇÃO.
- PARA TER HÁLITO PURO, ESCOVE TAMBÉM A LÍNGUA, LOCAL ONDE MUITAS BACTÉRIAS FICAM ALOJADAS.

DISPONÍVEL EM: [HTTP://WWW.COLGATE.COM.BR/PT/BR/OC/ORAL-HEALTH/](http://www.colgate.com.br/pt/br/oc/oral-health/). ACESSO EM: 26 SET. 2017.

ESSE TEXTO SERVE PARA

- (A) INDICAR O USO DA PASTA DE DENTE.
- (B) ENSINAR COMO ESCOVAR OS DENTES.
- (C) MOSTRAR A MARCA DA ESCOVA DE DENTE.
- (D) ACONSELHAR A LIMPEZA DIÁRIA DOS DENTES.

QUESTÃO 9**AKITA INU****FICHA TÉCNICA**

	TAMANHO: DE 61 CM A 67 CM	TEMPERAMENTO: CALMO, FIEL, DÓCIL E RECEPTIVO
	PESO: DE 49 KG A 58 KG	PELAGEM: PELO EXTERNO DURO E RETO, SUBPELO MACIO E DENSO
	CORES: VERMELHO-FULVO, TIGRADO E BRANCO	

REVISTA MEU PET. EDIÇÃO 50. EDITORA ESCALA, P.18.

QUANTO PESA UM CACHORRO AKITA?

- (A) DE 49 KG A 58 KG.
 (B) DE 61 CM A 67 CM.
 (C) 49 KG A 61CM.
 (D) 58 KG A 67 CM.

QUESTÃO 10DISPONÍVEL EM: [HTTP://INTERAGIRAQUEAGORA.BLOGSPOT.COM.BR/2012/08/TELAS-DE-IVAN-CRUZ-BRINCADEIRAS-DE.HTML](http://interagiraqueagora.blogspot.com.br/2012/08/telas-de-ivan-cruz-brincadeiras-de.html). ACESSO EM: 26 SET. 2017.**COMO BRINCAR**

PARA JOGAR, FIQUE ATRÁS DA LINHA DO INÍCIO DO TRAÇADO – DO LADO OPOSTO À PALAVRA ‘CÉU’ – E ATIRE O MARCADOR NA CASINHA QUE NÃO PODERÁ SER PISADA, COMEÇANDO PELO NÚMERO 1. ATRAVESSE O RESTO DO CIRCUITO COM PULOS ALTERNADOS NOS DOIS PÉS E EM UM PÉ SÓ. AO CHEGAR NO ‘CÉU’, FAÇA O CAMINHO DE VOLTA DO CIRCUITO, PEGUE O MARCADOR - SEM PULAR NA CASA ONDE ELE ESTÁ – E VOLTE PARA TRÁS DO TRAÇADO. DEPOIS JOGUE O MARCADOR NA PRÓXIMA CASINHA E ASSIM SUCESSIVAMENTE. SE ERRAR, SERÁ A VEZ DO PRÓXIMO JOGADOR. VENCE QUEM COMPLETAR TODO DIAGRAMA PRIMEIRO.

DISPONÍVEL EM: [HTTP://DELAS.IG.COM.BR/FILHOS/BRINCADEIRAS/AMARELINHA/4E3B1E4A3CB31768630000_01.HTML](http://delas.ig.com.br/filhos/brincadeiras/amarelinha/4e3b1e4a3cb31768630000_01.html). ACESSO EM: 26 SET. 2017.


O TEXTO E A IMAGEM TRATAM DA BRINCADEIRA

- (A) AMARELINHA.
 (B) QUEIMADA.
 (C) BARRA MANTEIGA.
 (D) CABO DE GUERRA.

MATEMÁTICA

QUESTÃO 11


O RATO CAMINHA PELO LABIRINTO E ESTÁ SEGUINDO EM FRENTE. SE ELE VIRAR À PRIMEIRA ESQUERDA E DEPOIS À PRIMEIRA DIREITA, ELE ENCONTRARÁ



- (A) O BIFE.
- (B) O QUEIJO.
- (C) A COXINHA.
- (D) A ROSQUINHA.

QUESTÃO 12

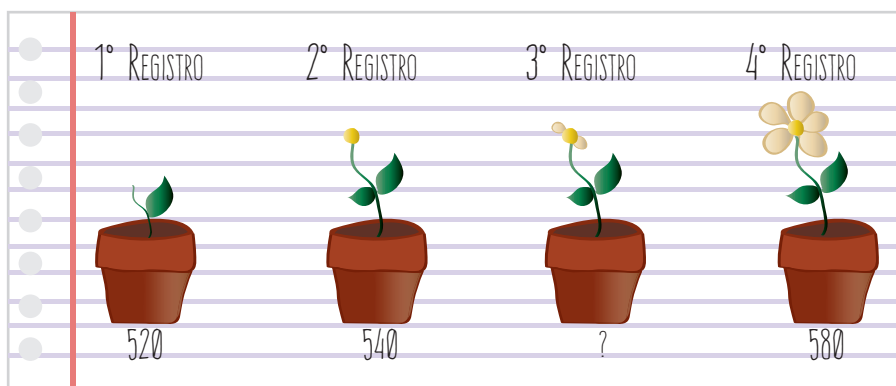
EM UMA EXCURSÃO DA ESCOLA, ENTRARAM 34 CRIANÇAS NO PRIMEIRO ÔNIBUS E 26 NO SEGUNDO. O NÚMERO DE CRIANÇAS QUE O PRIMEIRO ÔNIBUS TINHA A MAIS QUE O SEGUNDO ERA



- (A) 60.
- (B) 50.
- (C) 12.
- (D) 8.

QUESTÃO 13

UMA SEMENTE FOI PLANTADA E DEPOIS DE 520 HORAS FOI FEITO O 1º REGISTRO DO SEU CRESCIMENTO. O SEGUNDO REGISTRO FOI FEITO 540 HORAS DEPOIS DO PLANTIO, ASSIM POR DIANTE, OBEDECENDO SEMPRE UM INTERVALO FIXO DE TEMPO. FALTOU O NÚMERO DE HORAS DO 3º REGISTRO.



O NÚMERO DE HORAS, QUE APARECERÁ NO TERCEIRO REGISTRO, É

- (A) 1060.
- (B) 560.
- (C) 40.
- (D) 20.

QUESTÃO 14

O RESULTADO DE $4\ 864 - 2\ 703$ É

- (A) 7 567.
- (B) 6 567.
- (C) 2 161.
- (D) 1 161.

QUESTÃO 15

O TABULEIRO DE UM JOGO TEM 24 CASAS NO TOTAL, DISTRIBUÍDAS EM 6 FILEIRAS. O NÚMERO DE CASAS EM CADA FILEIRA É

- (A) 144.
- (B) 30.
- (C) 18
- (D) 4.

QUESTÃO 16

A PROFESSORA VAI MARCAR NO CALENDÁRIO O DIA DA FEIRA CULTURAL, QUE SERÁ NO TERCEIRO SÁBADO DO MÊS.

DOMINGO	SEGUNDA-FEIRA	TERÇA-FEIRA	QUARTA-FEIRA	QUINTA-FEIRA	SEXTA-FEIRA	SÁBADO
					1	2
3	4	5	6	7	8	9
10	11	12	13	14	15	16
17	18	19	20	21	22	23
24	25	26	27	28	29	30

ELA MARCARÁ O DIA

- (A) 3.
- (B) 9.
- (C) 16.
- (D) 17.

QUESTÃO 17

OS QUADROS DE UMA EXPOSIÇÃO ESTÃO NUMERADOS E SERÃO ORGANIZADOS NO CORREDOR DA ENTRADA, EM ORDEM DECRESCENTE DE NUMERAÇÃO.



OS NÚMEROS DOS QUADROS, EM ORDEM DECRESCENTE, SÃO

- (A) 120, 160, 200, 240, 280, 320.
- (B) 320, 280, 240, 200, 160, 120.
- (C) 320, 200, 120, 160, 280, 240.
- (D) 240, 280, 160, 120, 200, 320.

QUESTÃO 18



DISPONÍVEL EM: WWW.MAISONSUDUMONDE.COM/UK/EN/MEUBLES-DECORATION.HTM?isREDIRECT=1. ACESSO EM: 24 AGO. 2017.

A VELA, MOSTRADA NA IMAGEM, TEM A FORMA PARECIDA COM A DE UM OBJETO GEOMÉTRICO.
ESSE OBJETO É

- (A) O CILINDRO.
- (B) O CONE.
- (C) A PIRÂMIDE.
- (D) A ESFERA.

QUESTÃO 19

OS ALUNOS FIZERAM UMA PESQUISA NA TURMA PARA SABER DO QUE CADA UM TEM MAIS MEDO. REGISTRARAM O RESULTADO EM UM QUADRO.

PESQUISA SOBRE O MEDO	
O QUE DÁ MEDO	QUANTOS TÊM MEDO
COBRA	43
ESCURO	29
LADRÃO	32
TROVÃO	38
FANTASMA	41

OS ALUNOS TÊM MAIS MEDO

- (A) DE COBRA.
- (B) DE LADRÃO.
- (C) DO ESCURO.
- (D) DO TROVÃO.

QUESTÃO 20

UM BRINQUEDO FOI PAGO COM UMA NOTA DE CEM REAIS.



FOI DADO O SEGUINTE TROCO:



DISPONÍVEL EM: UTENTES.COLORIR.COM/EDIULSON/FAVORITOS/DESENHOS/1/. ACESSO EM: 23 SET. 2017.

DISPONÍVEL EM: WWW.BCB.GOV.BR/NOVASNOTAS/NOTA-10-REAIS.HTML. ACESSO EM: 27 AGO. 2017.

O VALOR DO BRINQUEDO, EM REAIS, É

- (A) 114.
- (B) 100.
- (C) 86.
- (D) 14.

NATUREZA E SOCIEDADE

QUESTÃO 21



DISPONÍVEL EM: [HTTP://VEJASP.ABRIL.COM.BR/ESTABELECIMENTO/CAPELA-DE-SAO-MIGUEL-ARCANJO/](http://vejasp.abril.com.br/estabelecimento/cape-la-de-sao-miguel-arcangelo/). ACESSO EM: 7 AGO. 2017.

PRESENTE NA MAIORIA DAS CIDADES BRASILEIRAS, O LOCAL REPRESENTADO NA IMAGEM É CARACTERIZADO COMO:

- (A) LOJA.
- (B) HOSPITAL.
- (C) IGREJA.
- (D) RODOVIÁRIA.

QUESTÃO 22



DISPONÍVEL EM: [HTTP://WWW.MUSEUOSCARNIEMEYER.ORG.BR/EXPOSICOES/EXPOSICOES/REALIZADAS/2014/PLUMARIA](http://www.museuoscarniemeyer.org.br/exposicoes/exposicoes/realizadas/2014/plumaria). ACESSO EM: 7 AGO. 2017.

O OBJETO APRESENTADO NA IMAGEM PERTENCE À

- (A) RELIGIÃO ASIÁTICA.
- (B) CULTURA INDÍGENA.
- (C) HERANÇA AFRICANA.
- (D) TRADIÇÃO EUROPEIA.

QUESTÃO 23



DISPONÍVEL EM: [HTTP://G1.GLOBO.COM/NOTICIAS/MUNDO/0,,MUL1036706-5602,00-RELOGIO+DE+BOLSO+DE+LINCOLN+E+ABERTO+E+REVELA+MISTERIO+DE+ANOS.HTML](http://g1.globo.com/Noticias/Mundo/0,,MUL1036706-5602,00-RELOGIO+DE+BOLSO+DE+LINCOLN+E+ABERTO+E+REVELA+MISTERIO+DE+ANOS.HTML). ACESSO EM: 13 AGO. 2017.

O OBJETO QUE APARECE NA IMAGEM SERVE PARA:

- (A) INDICAR AS HORAS.
- (B) CONTAR OS SÉCULOS.
- (C) MOSTRAR A DIREÇÃO.
- (D) REGISTRAR O PASSADO.

QUESTÃO 24



DISPONÍVEL EM: [HTTP://WWW.PREFEITURA.SP.GOV.BR/CIDADE/SECRETARIAS/COMUNICACAO/NOTICIAS/?p=105489](http://WWW.PREFEITURA.SP.GOV.BR/CIDADE/SECRETARIAS/COMUNICACAO/NOTICIAS/?p=105489). ACESSO EM: 21 AGO. 2017.

O MEIO DE LOCOMOÇÃO QUE APARECE NA IMAGEM É UM TRANSPORTE

- (A) AÉREO.
- (B) FERROVIÁRIO.
- (C) MARÍTIMO.
- (D) RODOVIÁRIO.

QUESTÃO 25



DISPONÍVEL EM: [HTTPS://WWW.ROYALMAQUINAS.COM.BR/BLOG/CONFINAMENTO-OU-PASTO-QUAL-A-MELHOR-OPCAO-PARA-O-GADO-LEITEIRO/](https://www.royalmaquinas.com.br/blog/confinamento-ou-pasto-qual-a-melhor-opcao-para-o-gado-leiteiro/). ACESSO EM: 7 AGO. 2017.

O ESTADO EM QUE VIVEMOS FAZ PARTE DA REGIÃO

- (A) SUL.
- (B) NORTE.
- (C) SUDESTE.
- (D) NORDESTE.

QUESTÃO 26

OS RECURSOS NATURAIS SÃO ELEMENTOS DA NATUREZA ÚTEIS AO SER HUMANO PARA A SUA SOBREVIVÊNCIA, CONFORTO E DESENVOLVIMENTO DE DIVERSAS ATIVIDADES. ELES PODEM SER DIVIDIDOS EM RECURSOS NATURAIS RENOVÁVEIS E NÃO RENOVÁVEIS, CONFORME POSSAM OU NÃO SER REGENERADOS PARA SUA UTILIZAÇÃO.

DISPONÍVEL EM: [HTTP://PLANETA-TERRA.INFO/RECURSOS-NATURAIS.HTML](http://planeta-terra.info/recursos-naturais.html). ACESSO EM: 09 AGO. 2017. (ADAPTADO).



DISPONÍVEL EM: [HTTP://GAMBARTOP.COM/GAMBAR-OKE/LIVRO-EDUARDO-GEOGRAFIA/-](http://gambartop.com/gambar-oke/livro-eduardo-geografia/). ACESSO EM: 19 DE SET. 2017. (ADAPTADO).

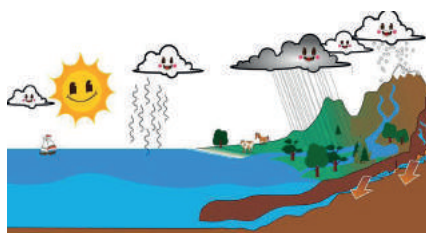
SÃO EXEMPLOS DE RECURSOS NATURAIS RENOVÁVEIS OU QUE PODEM SER RENOVADOS:

- (A) FLORESTAS E ENERGIA SOLAR.
- (B) ÁGUA E PETRÓLEO.
- (C) VENTOS E FERRO.
- (D) SOLO E OURO.

QUESTÃO 27

QUANDO FALAMOS EM ÁGUA, EM GERAL, PENSAMOS IMEDIATAMENTE NA SUA FORMA LÍQUIDA COMO RIOS, MARES, CHUVA. MAS TAMBÉM A NEVE, O GELO, A CHUVA DE GRANIZO, A NUVEM E O VAPOR D'ÁGUA SÃO ÁGUA EM FORMA SÓLIDA E GASOSA.

RIOS, ELOCI PERES. **ÁGUA VIDA E ENERGIA**. SÃO PAULO: ATUAL EDITORA, 2004.



DISPONÍVEL EM: [HTTP://WWW.AGDA.PT/ESPACO-JUNIOR.HTML](http://www.agda.pt/espaco-junior.html). ACESSO EM: 19 DE SET. 2017. (ADAPTADO).

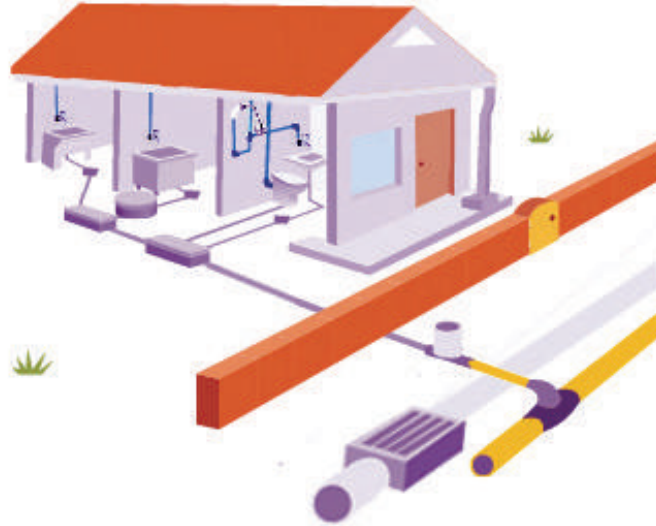
ESSAS DIFERENTES FORMAS DA ÁGUA OCORREM DEVIDO A MUDANÇAS DE

- (A) TEMPERATURA DO AMBIENTE.
- (B) VELOCIDADE DO VENTO.
- (C) QUANTIDADE DE LUZ.
- (D) TIPO DE POLUIÇÃO.

QUESTÃO 28

O ESGOTO E O LIXO FAZEM PARTE DOS RESÍDUOS ELIMINADOS EM NOSSA VIDA DIÁRIA. ELES PODEM SER DOMÉSTICOS OU NÃO DOMÉSTICOS (INDUSTRIAIS).

DISPONÍVEL EM: [HTTP://SITE.SABESP.COM.BR/SITE/UPLOADS/FILE/FOLHETOS/2016/ESGOTO_LIXO.PDF](http://site.sabesp.com.br/site/uploads/file/folhetos/2016/ESGOTO_LIXO.PDF). ACESSO EM: 11 AGO.2017. (ADAPTADO).



DISPONÍVEL EM: [HTTP://WWW.DAEBAURU.COM.BR/2014/ESGOTO/ESGOTO.PHP?SECAO=GORDURA&PAGINA=16](http://www.daebauru.com.br/2014/ESGOTO/ESGOTO.PHP?SECAO=GORDURA&PAGINA=16). ACESSO EM: 11 AGO. 2017

UMA DAS FONTES DE ESGOTO DOMÉSTICO É A

- (A) PULVERIZAÇÃO DE AGROTÓXICO NO CAMPO.
- (B) TROCA DE ÓLEO EM OFICINAS MECÂNICAS.
- (C) PRECIPITAÇÃO DA ÁGUA DA CHUVA.
- (D) LAVAGEM DE ROUPA EM CASA.

QUESTÃO 29

AS FASES DA LUA SE DEVEM À ILUMINAÇÃO QUE A LUA RECEBE DO SOL E COMO ELA É REFLETIDA PARA A TERRA.

AS FASES DA LUA SÃO:

LUA NOVA – QUANDO A LUA NÃO É VISÍVEL DA TERRA.

LUA CRESCENTE – QUANDO VEMOS SOMENTE METADE DA FACE ILUMINADA, OU SEJA, UM QUARTO DA LUA.

LUA CHEIA – QUANDO A FACE VISÍVEL FICA TODA ILUMINADA DURANTE TODA A NOITE.

LUA MINGUANTE – QUANDO O LADO QUE VEMOS ILUMINADO É O QUE ESTAVA ESCURO NA FASE CRESCENTE.

DISPONÍVEL EM: [HTTP://WWW.PLANETARIODORIO.COM.BR/OBSERVACAO-DO-CEU/](http://www.planetariodorio.com.br/observacao-do-ceu/). ACESSO EM: 11 AGO. 2017. (ADAPTADO).



DISPONÍVEL EM: [HTTPS://WWW.ALTOASTRAL.COM.BR/SIMPATIAS-DAS-FASES-DA-LUA/](https://www.altoastral.com.br/simpatias-das-fases-da-lua/). ACESSO EM: 11 AGO. 2017.

A FASE ILUSTRADA NA IMAGEM É A LUA

- (A) NOVA.
- (B) CRESCENTE.
- (C) CHEIA.
- (D) MINGUANTE.

QUESTÃO 30

O HOMEM PRECISA DE UM APARELHO ESPECIAL PARA RESPIRAR EMBAIXO DA ÁGUA. NO ENTANTO, EXISTEM OUTROS ANIMAIS, COMO O TUBARÃO, QUE RESPIRAM NATURALMENTE NESSE AMBIENTE.



DISPONÍVEL EM: [HTTP://WWW.STORYTRENDER.COM/2023/FEARLESS-DIVER-COMES-FACE-FACE-GREAT-WHITE-SHARK](http://www.storytrender.com/2023/fearless-diver-comes-face-face-great-white-shark). ACESSO EM: 14 AGO. 2017.

ISSO ACONTECE PORQUE A RESPIRAÇÃO DELES SE DÁ

- (A) PELAS BRÂNQUIAS
- (B) PELA TRAQUEIA.
- (C) PELOS PULMÕES.
- (D) PELA PELE.